

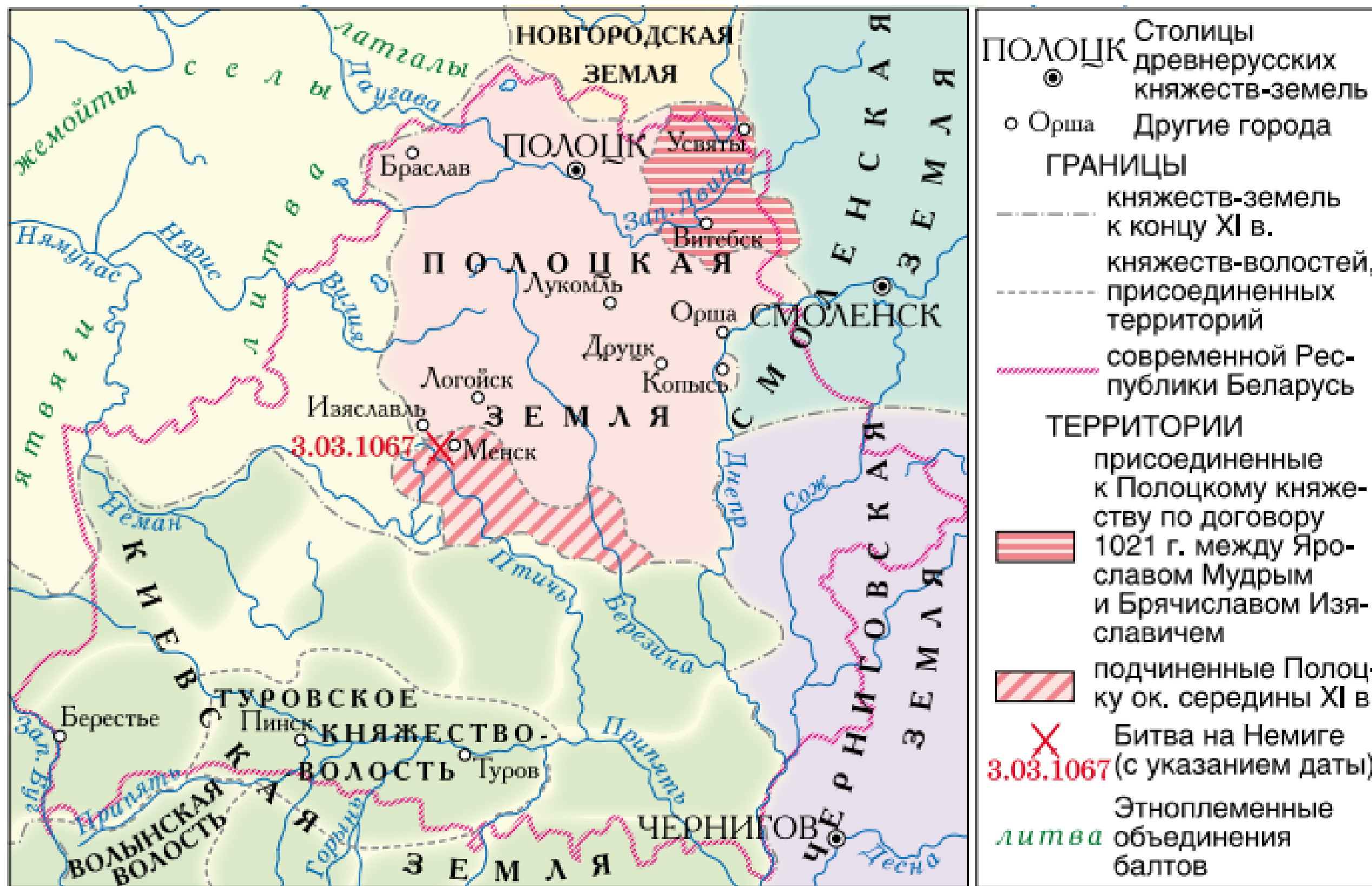


Формирование картографических умений и навыков при подготовке к ЦЭ и ЦТ.

Приёмы запоминания дат

Рутич Галина Михайловна, учитель истории
государственного учреждения образования
«Средняя школа №1 г.Березы имени В.Х.Головки»





С опорой на картосхему определите два правильных утверждения:

1. Этноплеменным объединением балтов были латгалы;
2. Битва на Немиге произошла 03.03.1069 г.;
3. В 1021 г. к Полоцкому княжеству были присоединены Усвяты и Витебск;
4. Орша входила в состав Смоленской земли.

Государственность на белорусских землях в XI в.

Используя картосхему, назовите направления расширения границ Полоцкого княжества.



Распространение христианства

Почему официальный отсчет истории христианства в Беларуси начинается с 992 г.?

Учебное пособие
 «История Беларуси
 в контексте
 всемирной
 истории»,
 10 класс, Ч. 1, с. 191

Образование и рост территории ВКЛ. Военные события

Образование и рост территории ВКЛ. События

присоединения земель к ВКЛ. Соотнесите территории со способом (путём) их включения в состав ВКЛ.

Задание для размышления: Какие внешнеполитические факторы способствовали и какие препятствовали процессу образования Великого Княжества Литовского? Приведите примеры, используя карту.



Проект «История Беларуси во времени и пространстве»
(10 класс)
<https://boxapps.adu.by/public/game/1225>

<https://boxapps.adu.by/public/game/792>

1

В результате договора с местными князьями и знатью

2

В результате династического брака

3


В результате завоевания

Активация Windows
Чтобы активировать Windows, перейдите в раздел "Параметры"

Учебное пособие «История Беларуси в контексте всемирной истории», 10 класс, Ч. 2, с. 107



ГРАНИЦЫ	ТЕРРИТОРИИ
----- государств в 1392 г.	■ непосредственного владения Витовта в 1392 г.
— ВКЛ к 1430 г.	■ присоединенные к ВКЛ при Витовте
..... присоединенных территорий современной Республики Беларусь	■ запустевшие в результате набегов татар
1411 Годы присоединения территорий к ВКЛ	■ Новгородская Земля Государства, зависимые от Витовта к 1430 г.



- Территория ВКЛ до Люблинской унии
- Территории, аннексированные Польшей в 1569 г.
- Военные действия в ходе Ливонской войны
- Речь Посполитая в конце XVI в.



<https://boxapps.adu.by/public/game/1225>

Великое Княжество Литовское в конце XIV — первой половине XV в.

Учебное пособие «История Беларуси в контексте всемирной истории», 10 класс, Ч. 2, с. 202, с. 206, с. 210



<ul style="list-style-type: none"> ● МОСКВА Столицы государств ● ТЕШИН Столицы феодальных владений ● Полоцк Центры воеводств Речи Посполитой ● Гомель Другие населенные пункты <p>ГРАНИЦЫ</p> <ul style="list-style-type: none"> ----- государств в начале XVII в. ----- зависимых государств, между ВКЛ и Польшей ----- присоединенных/потерянных территорий Речи Посполитой после 1634 г. ----- современной Республики Беларусь <p>ТЕРРИТОРИИ</p> <ul style="list-style-type: none"> Речи Посполитой в 1618–1634 гг. Османской империи и ее вассалов в начале XVII в. совместных владений ВКЛ и Польши присоединенные к Речи Посполитой по условиям Деулинского перемирия 1618 г. владений австрийских Габсбургов в начале XVII в. 	<p>Российского царства в 1618–1634 гг. утвержденного за Россией согласно условиям Полновского мира 1634 г.</p> <p>ПОХОДЫ ВОЙСК</p> <ul style="list-style-type: none"> ВКЛ против шведов Шведского королевства Речи Посполитой против Османской империи Османской империи Лжедмитрия I в 1604–1605 гг. Сигизмунда II в 1609–1611 гг. и Владислава IV на Москву в 1617–1618 гг. Российского царства в 1632–1634 гг. <p>Осады городов (с указанием года)</p> <p>Крупнейшие сражения (с указанием года)</p> <p>МЕСТА И ДАТЫ ЗАКЛЮЧЕНИЯ</p> <ul style="list-style-type: none"> Деулинского перемирия (1618) Альтмаркского перемирия (1629) Поляновского мира (1634)
---	--

Военные действия Речи Посполитой в первой половине XVII в.

Назовите основных военных соперников Речи Посполитой в первой половине XVII в. на северных, восточных и южных рубежах государства.



<ul style="list-style-type: none"> ● ВИАЛНО Столицы государств ● ПОЛОЦК Центры воеводств Речи Посполитой ● Друцк Центры поветов Речи Посполитой ● Борисов Прочие города и населенные пункты <p>ГРАНИЦЫ</p> <ul style="list-style-type: none"> ----- государств в середине XVII в. ----- Речи Посполитой в конце XVI в. ----- присоединенных территорий современной Республики Беларусь <p>Рубеж территорий, находившихся к 1658 г. под контролем</p> <ul style="list-style-type: none"> российских войск казачьих (украинских) войск <p>Места и годы заключения</p> <ul style="list-style-type: none"> Кейданской унии ВКЛ и Швеции Вилenskого перемирия Андрусовского перемирия 	<p>ТЕРРИТОРИИ</p> <ul style="list-style-type: none"> совместного владения ВКЛ и Польши перешедшие к России по условиям Андрусовского перемирия <p>ПЕРЕМЕЩЕНИЕ ВОЙСК</p> <ul style="list-style-type: none"> Речи Посполитой Российского царства Шведского королевства украинских казаков <p>Осады городов (успешные и безрезультатные)</p> <p>Восстания в городах против царской власти</p> <p>Места сосредоточения российских войск</p>
---	---

Территория Беларуси в войне Российского государства с Речью Посполитой 1654–1667 гг.

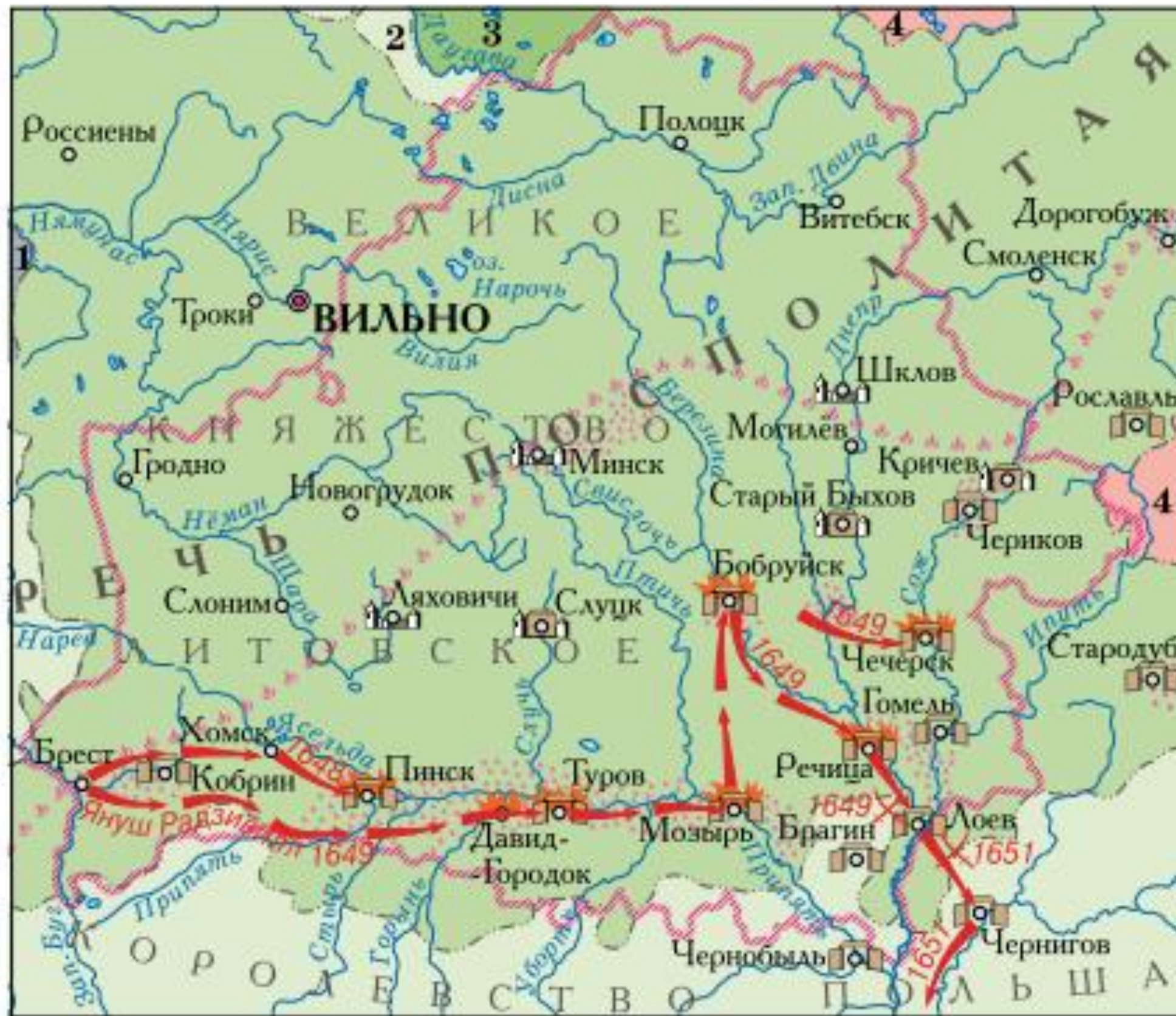
Воспользуйтесь картосхемой и дополните информацию о событиях войны 1654–1667 гг.



<ul style="list-style-type: none"> ● ВИАЛНО Столицы государств ● ПОЛОЦК Центры воеводств Речи Посполитой и губерний России ● Орша Центры поветов Речи Посполитой и уездов России ● Слуцк Другие населенные пункты ● Несвиж Населенные пункты, разрушенные в годы войны <p>ГРАНИЦЫ</p> <ul style="list-style-type: none"> ----- государств на середину XVIII в. ----- зависимых государств и территорий, между ВКЛ и Польшей ----- современной Республики Беларусь 	<p>ДВИЖЕНИЕ ВОЙСК</p> <ul style="list-style-type: none"> российских шведских <p>Места концентрации войск России</p> <p>Блокада шведами Гродно в 1706 г.</p> <p>Важнейшие битвы (с датами)</p> <p>На карте цифрами обозначены:</p> <ol style="list-style-type: none"> 1 – Курляндское и Земгальское герцогство (вассал Речи Посполитой) 2 – Инфлянтское воеводство (совместное владение ВКЛ и Королевства Польша) 3 – Королевство Пруссия 4 – Королевство Польша
--	--

Северная война

Используя картосхему, составьте рассказ о событиях Северной войны на территории Беларуси.



- 
 Населенные пункты наиболее сильно укрепленные – места сбора войск ВКЛ
- 
 занятые казаками
- 
 которые казаки не смогли захватить
- 
 наиболее пострадавшие за годы войны
- 
 Северная граница территорий, охваченных казацко-крестьянской войной
- 
 Районы крестьянских волнений и складывания казачьих отрядов (загонов)
- 
 Действия войск ВКЛ
- 
 Наиболее значительные битвы (с годами)
- Цифрами на карте обозначены:
 - 1 – Герцогство Пруссия (вассал Королевства Польша);
 - 2 – Курляндское и Земгальское герцогство (вассал Речи Посполитой);
 - 3 – Польские Инфлянты (совместное владение Польши и ВКЛ);
 - 4 – Российское царство

Казацко-крестьянская война 1648–1651 гг. на территории Беларуси

Учебное пособие «История Беларуси в контексте всемирной истории», 10 класс, Ч. 2, с. 204

1. Укажите белорусские города, через которые проходила северная граница территорий, охваченных казацко-крестьянской войной.

Разделы Речи Посполитой

Конфедерации

Речь Посполитая накануне разделов

Первый раздел Речи Посполитой

Второй раздел Речи Посполитой

Третий раздел Речи Посполитой

ВКЛ в 1793–1795 гг.

Территория: Польская часть Ливонии (Инфлянты), восточная Беларусь – до Двины, Друти и Днепра.

Потерянные города: Витебск, Полоцк, Мстиславль, Орша, Гомель, Могилев.

Площадь: 92 тыс. км²

Население: 1 млн 300 тыс. чел.



Активация Windows
Чтобы активировать Windows, перейдите к разделу "Параметры".

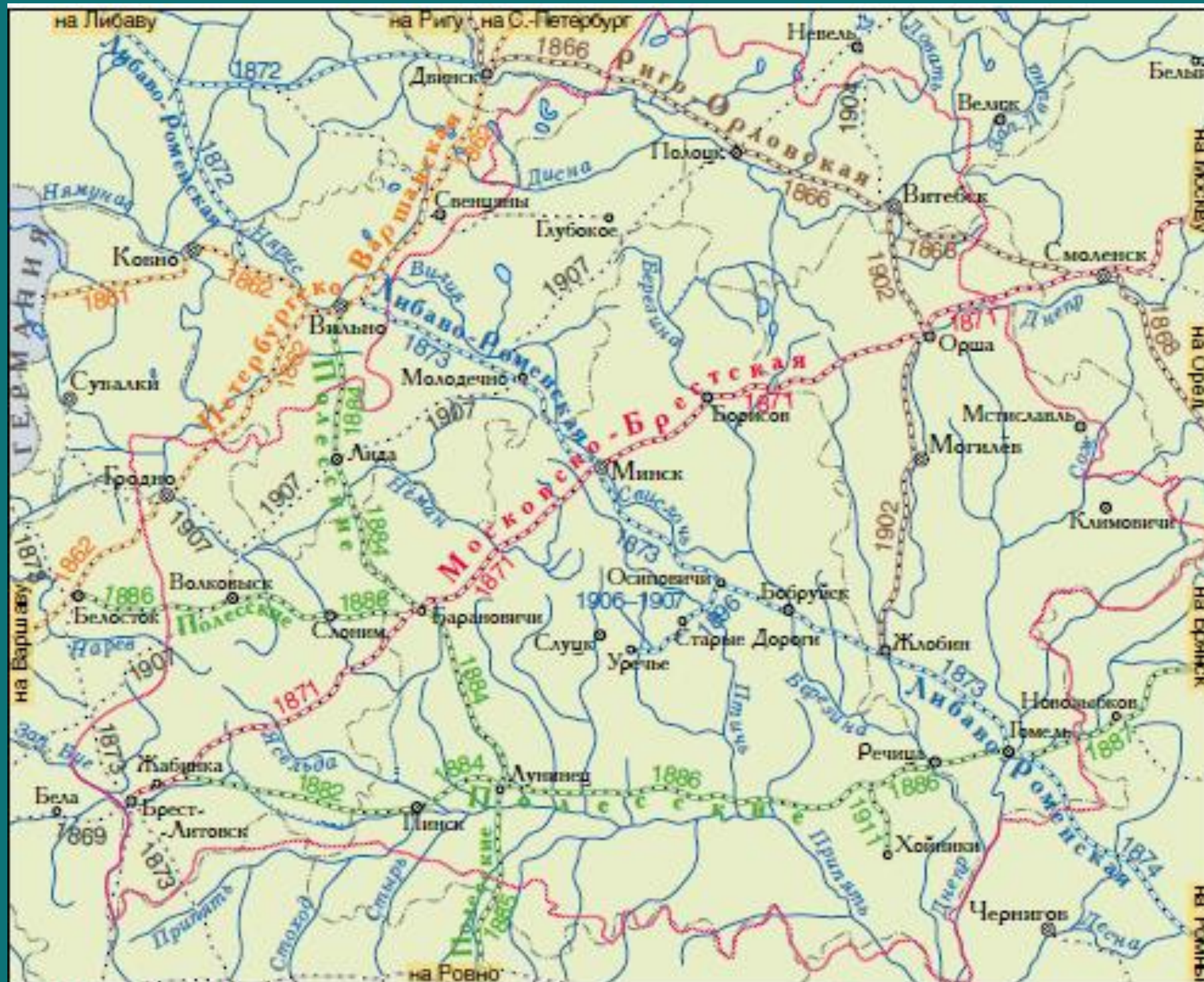


Схема железнодорожных путей во второй половине XIX — начале XX в.

Рассмотрите железнодорожную сеть Беларуси. Какие железные дороги и в каком году были построены? Через какие белорусские города они проходили? Как изменилась роль этих городов после строительства железной дороги?

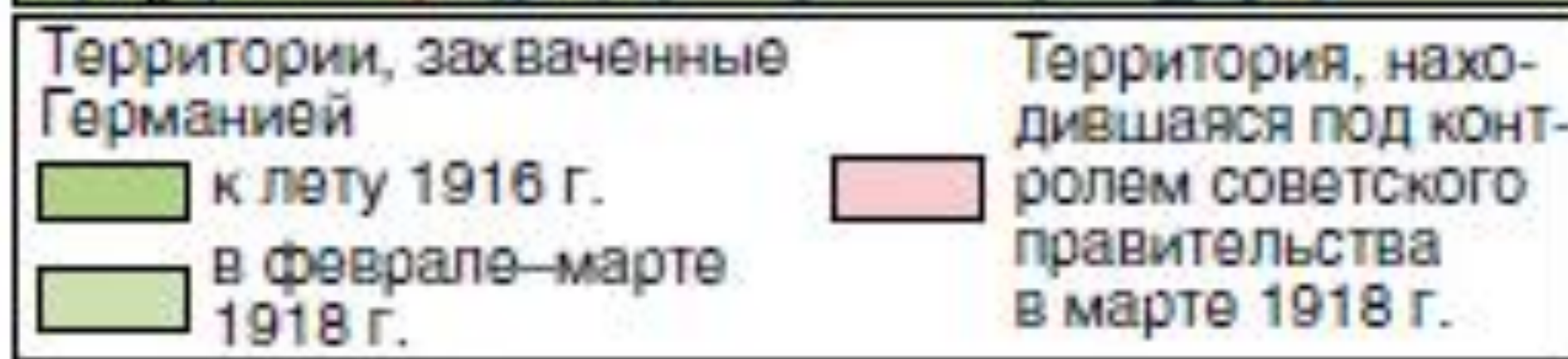
Учебное пособие по истории Беларуси 8 класс.

1. Найдите на картосхеме названия построенных на территории Беларуси железных дорог.
2. Охарактеризуйте их роль в росте городов.

Учебное пособие «История Беларуси в контексте всемирной истории», 11 класс, Ч. 1, с. 100



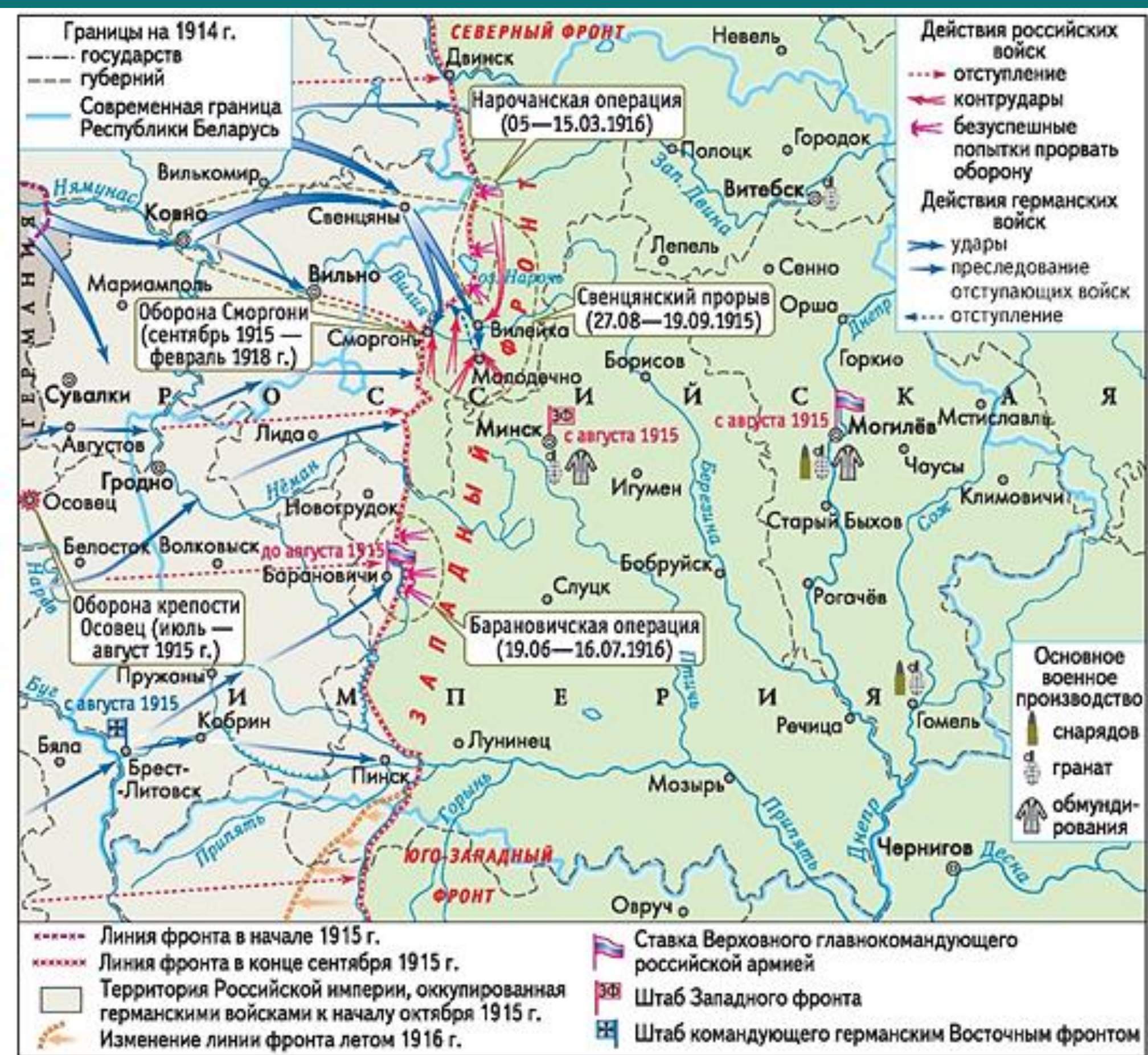
Какая железная дорога проходила через ваш населённый пункт?



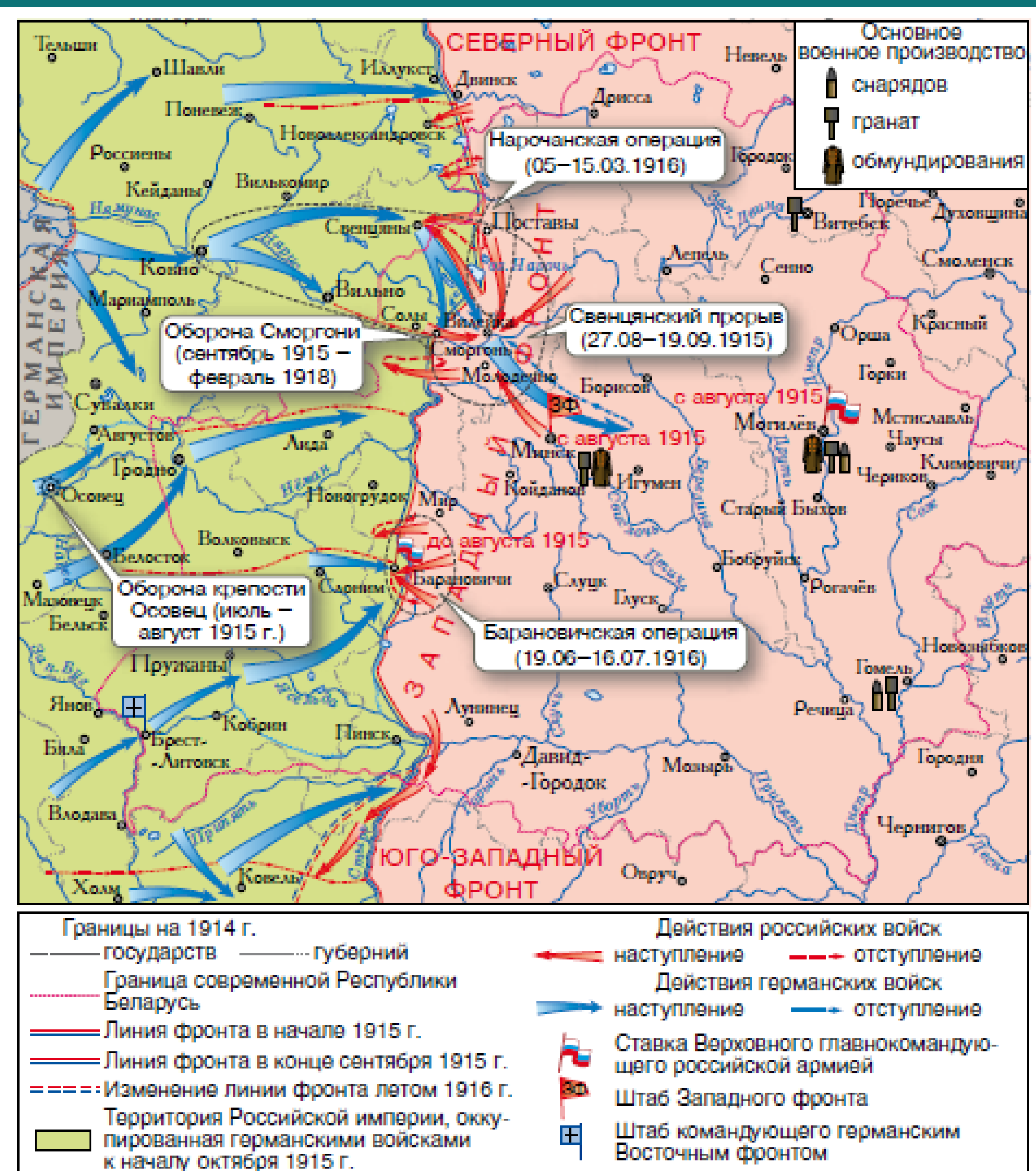
Используя картосхему, охарактеризуйте положение вашего региона в годы Первой мировой войны.

Учебное пособие
«История Беларуси в
контексте всемирной
истории»,
11 класс, Ч. 1, с. 175

Территория Беларуси, захваченная Германией в Первой мировой войне



Беларусь в годы Первой мировой войны



11 класс, Ч. 1, с. 190

Первая мировая война на территории Беларуси

Белорусские губернии

Укажите на карте города, о которых идет речь

<https://boxapps.adu.by/public/game/852>

Укажите на карте города, о которых идет речь.

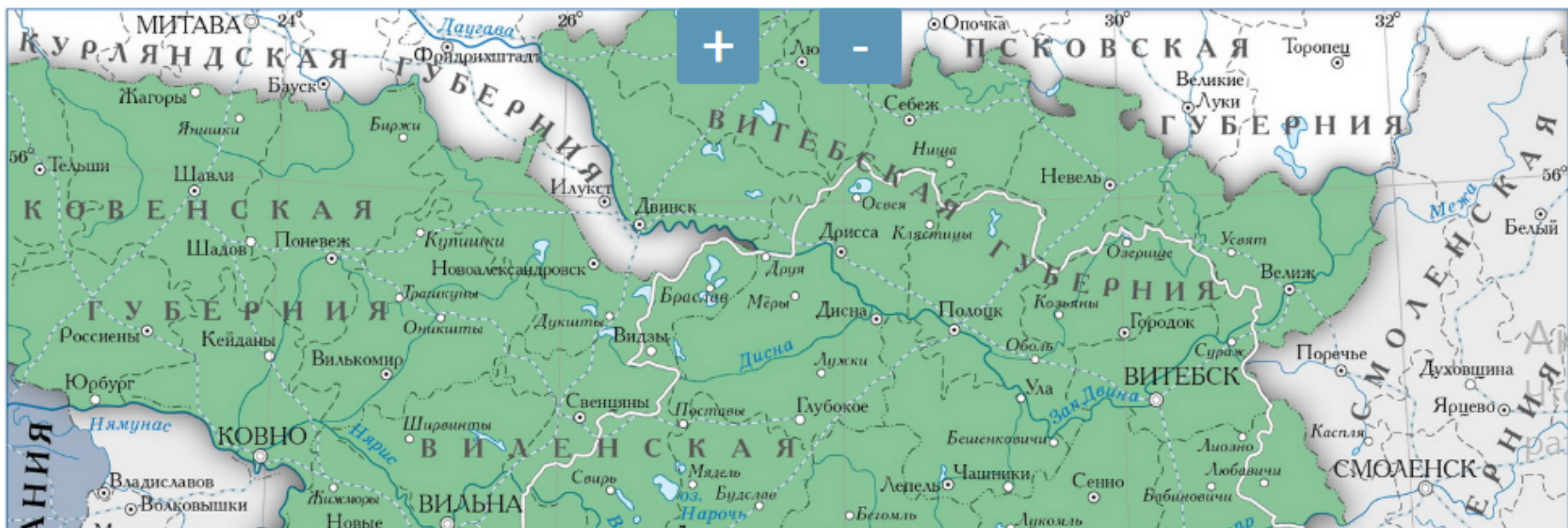
- 1
- 2
- 3
- 4
- 5
- 6
- 7
- 8
- 9
- 10

Город, оборона которого во время Первой мировой войны продолжалась 810 дней. ? Помощь

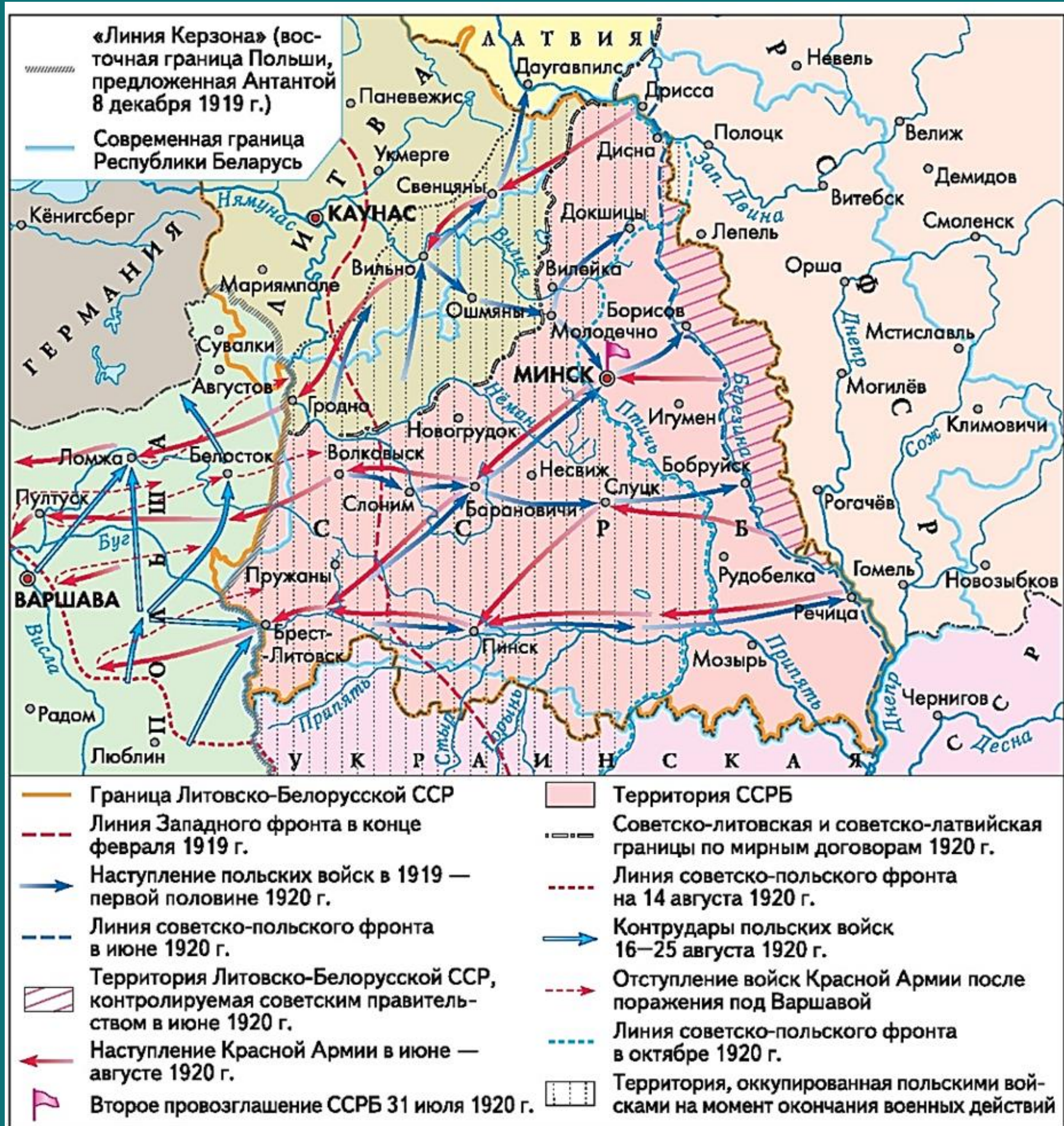
Сморгонь

**Проект «История
Беларуси во
времени и
пространстве»
(11 класс)**

[https://boxapps.adu.
by/public/game/1226](https://boxapps.adu.by/public/game/1226)



Активация Windows
Чтобы активировать Windows, перейдите в раздел "Параметры".



Беларусь в марте 1919—1920 г.

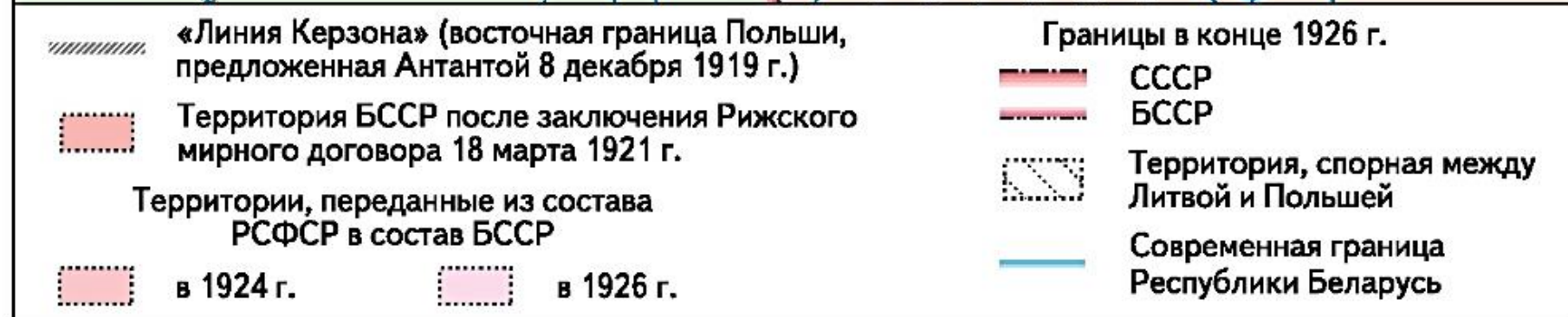
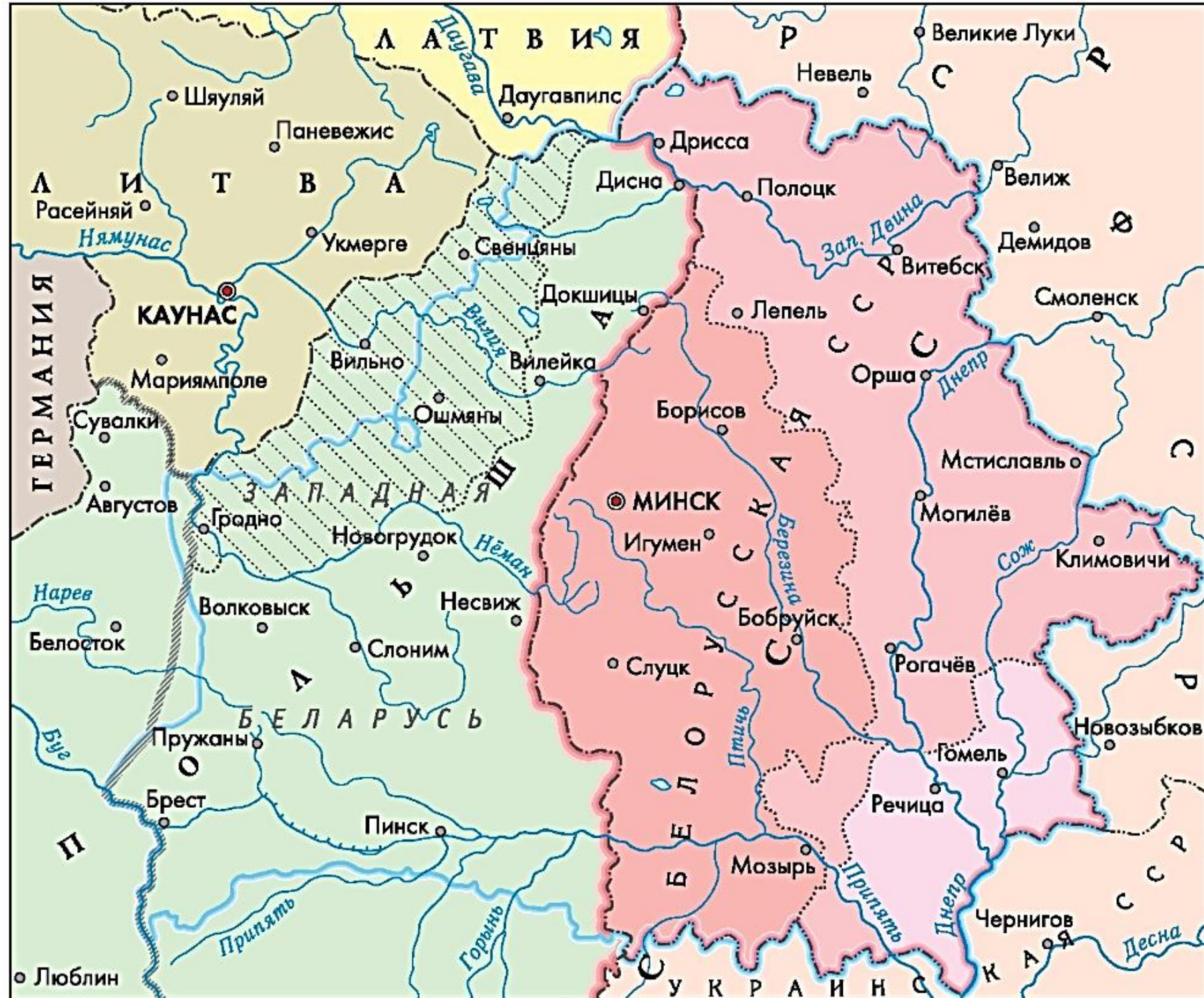
Укажите верные утверждения.

1. Второе провозглашение ССРБ произошло 1 июля 1920 г.
2. Второе провозглашение ССРБ произошло 31 июля 1920 г.
3. Второе провозглашение ССРБ было в г. Смоленске.
4. Второе провозглашение ССРБ было в г. Минске.

Укажите на карте.

1. Линию советско-польского фронта в июне 1920 г.
2. Территорию, оккупированную польскими войсками на момент окончания советско-польской войны.

**Беларусь по условиям Рижского мирного договора.
Укрупнение БССР в 1924 и 1926 гг.**



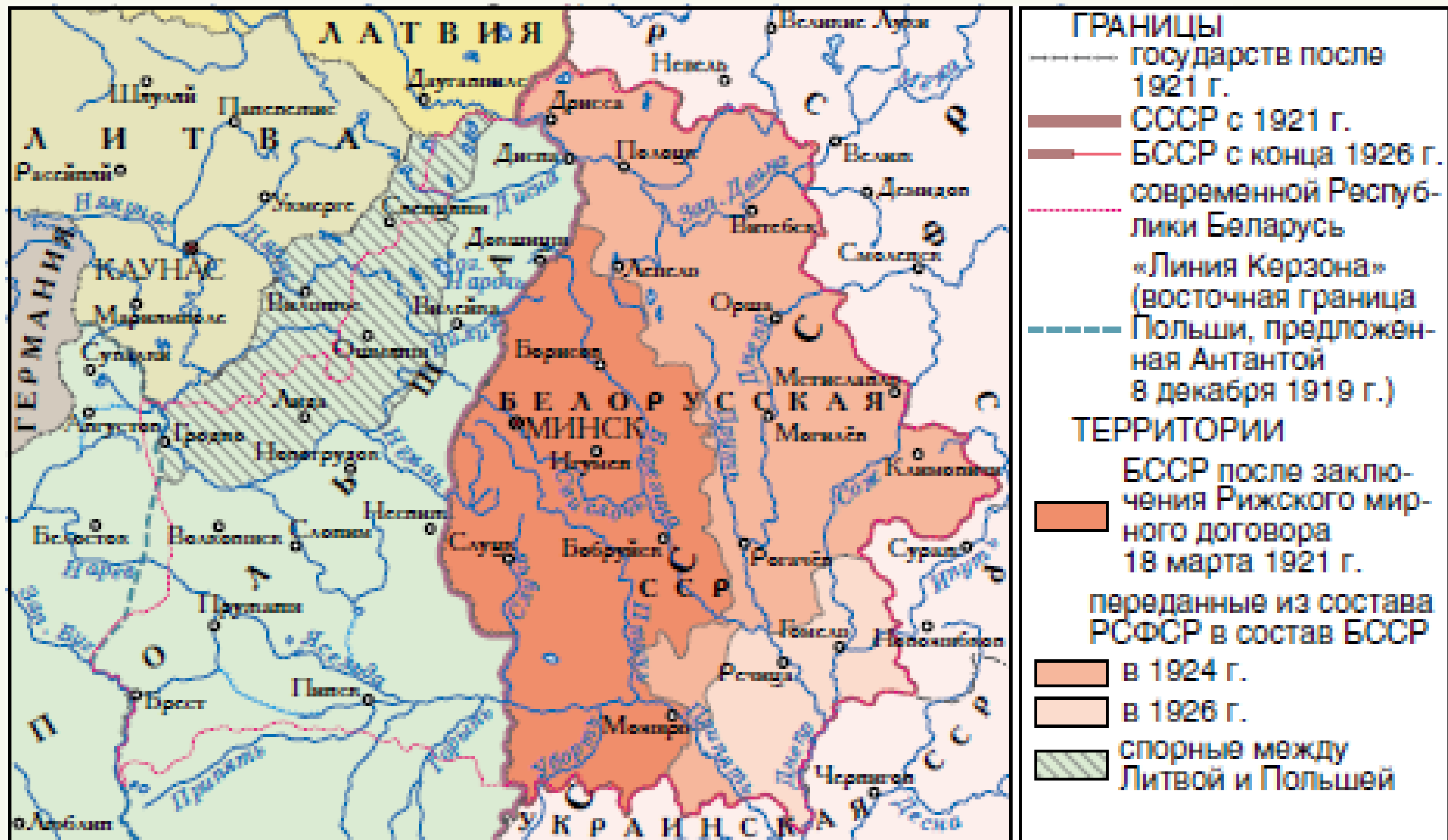
Укажите верные утверждения.

1. Первое укрупнение ССРБ произошло в 1924 г.
2. Первое укрупнение ССРБ произошло в 1925 г.
3. Второе укрупнение ССРБ произошло в 1926 г.
4. Второе укрупнение ССРБ произошло в 1927 г.

Укажите на карте.

1. Территорию первого укрупнения БССР.
2. Территорию второго укрупнению БССР.
3. Территорию Западной Беларуси.

Докажите, что территориальные и политические изменения на наших землях в период с 1919 по 1926 гг. стали важным этапом в становлении суверенного белорусского государства.




Формирование территории БССР в 1921–1926 гг.

1. Какой была территория ССРБ после заключения Рижского мирного договора?
2. Как изменилась территория БССР в 1924 и 1926 гг.?
3. В каком году и в результате каких событий Западная Беларусь была воссоединена с БССР?

Учебное пособие
 «История Беларуси в
 контексте всемирной
 истории»,
 11 класс, Ч. 1, с. 266

Изменение территории БССР в 1921–1940 гг.



Проследите за изменением территории БССР в 1921–1939 гг. Какими внешними факторами были обусловлены векторы (восточный и западный) расширения территории БССР в 1921–1939 гг.?



Изменение территории БССР в 1939–1940 гг.

Какому государству принадлежали города в 1921 г.

Какому государству принадлежали города в 1924 г.

Какому государству принадлежали города в 1926 г.

<https://boxapps.adu.by/public/game/902>



БССР

РСФСР

Польша

Бобруйск

Речица

Пинск

Минск

Витебск

Гродно

Активация Windows
Чтобы активировать Windows, перейдите в раздел "Параметры".

Изменение территории БССР в 1939–1940 гг.

Какому государству принадлежали города в 1921 г.

Какому государству принадлежали города в 1924 г.

Какому государству принадлежали города в 1926 г.

<https://boxapps.adu.by/public/game/902>

Беларусь в 1921–1939 гг.

Первое укрупнение БССР

Второе укрупнение БССР

Западная Беларусь в 1921–1939 гг.

Воссоединение Западной Беларуси с БССР

Национальное размежевание между БССР и Литовской ССР

1921 г.

Рижский мирный договор от 18 марта 1921 г. закрепил западную границу Социалистической Советской Республики Белоруссии (в последующем – БССР).

Столица – Минск.

Площадь – 52,4 тыс. км².

Население – 1 млн 544 тыс. чел.



Рижский мирный договор от 18 марта 1921 г.



Активация Windows
Чтобы активировать Windows, перейдите в раздел "Параметры".

Магнитная карта





↓
**Западная
 Беларусь
 1921-1939 гг.**

18 марта

↓
**6 уездов
 Минской
 губернии
 1921-1924 гг.**

↓
**16.01.1919г.
 Витебская,
 Могилёвская
 и Смоленская
 губернии вошли в
 состав РСФСР**

↓
**Западная
 Беларусь
 1921-1939 гг.**

↓
**1924 г. –
 I укрупнение БССР**

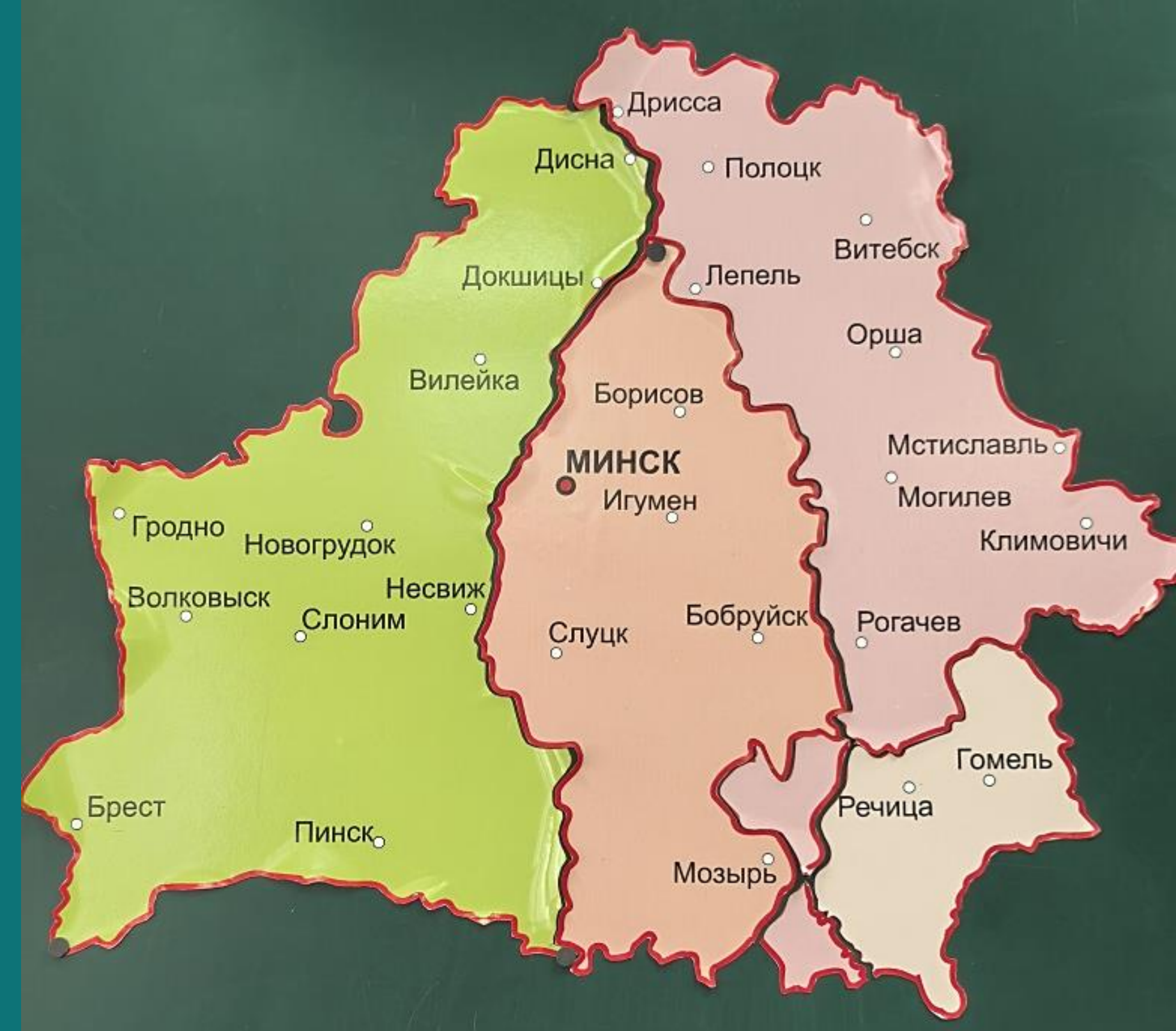
**Территория БССР
 1924-1926 гг.**

+ 2



↓
Западная
Беларусь
1921-1939 гг.

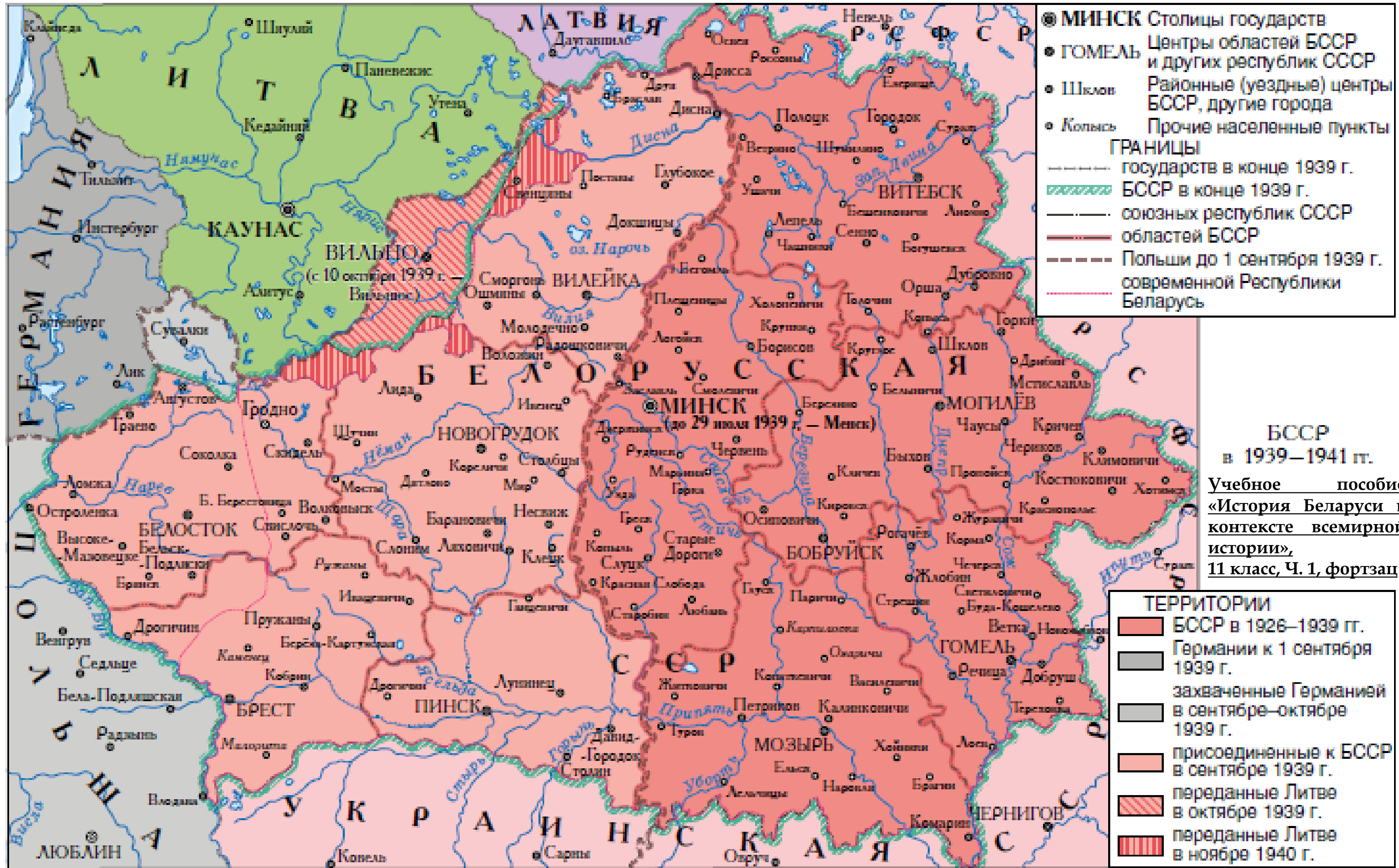
↓
+2 - 1926 г. -
II укрупнение БССР
Территория БССР
1926-1939 гг.



→
17 сентября 1939 гг. присоединение
Западной Беларуси к БССР



Карта и общественно-политические процессы в Западной Беларуси и БССР



- МИНСК Столицы государств
 - ГОМЕЛЬ Центры областей БССР и других республик СССР
 - Шклов Районные (уездные) центры БССР, другие города
 - Колысь Прочие населенные пункты
- ГРАНИЦЫ**
- государств в конце 1939 г.
 - БССР в конце 1939 г.
 - союзных республик СССР
 - областей БССР
 - Польши до 1 сентября 1939 г.
 - современной Республики Беларусь

**БССР
в 1939–1941 гг.**

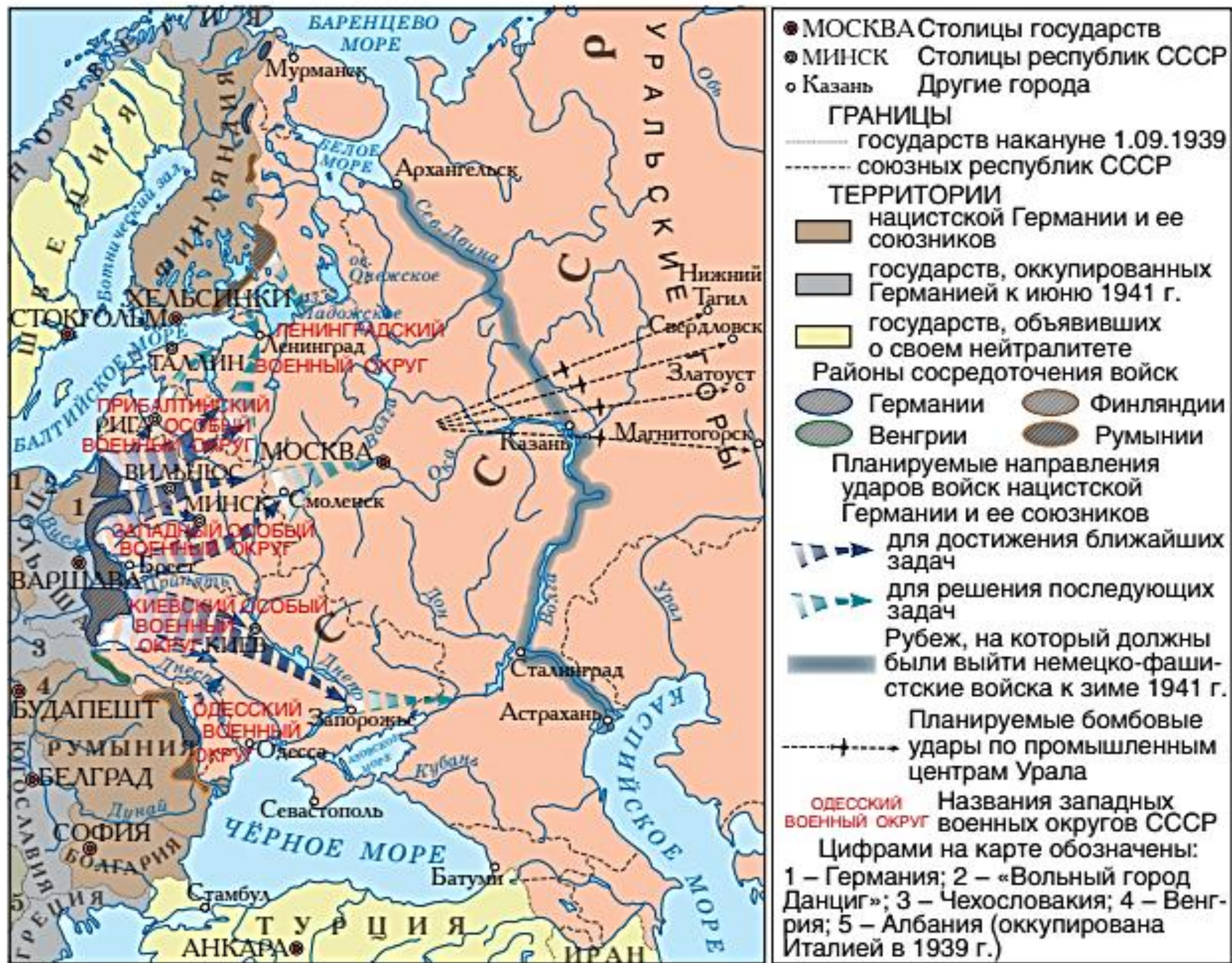
Учебное пособие
«История Беларуси в
контексте всемирной
истории»,
11 класс, Ч. 1, форзац

- ТЕРРИТОРИИ**
- БССР в 1926–1939 гг.
 - Германии к 1 сентября 1939 г.
 - захваченные Германией в сентябре–октябре 1939 г.
 - присоединенные к БССР в сентябре 1939 г.
 - переданные Литве в октябре 1939 г.
 - переданные Литве в ноябре 1940 г.

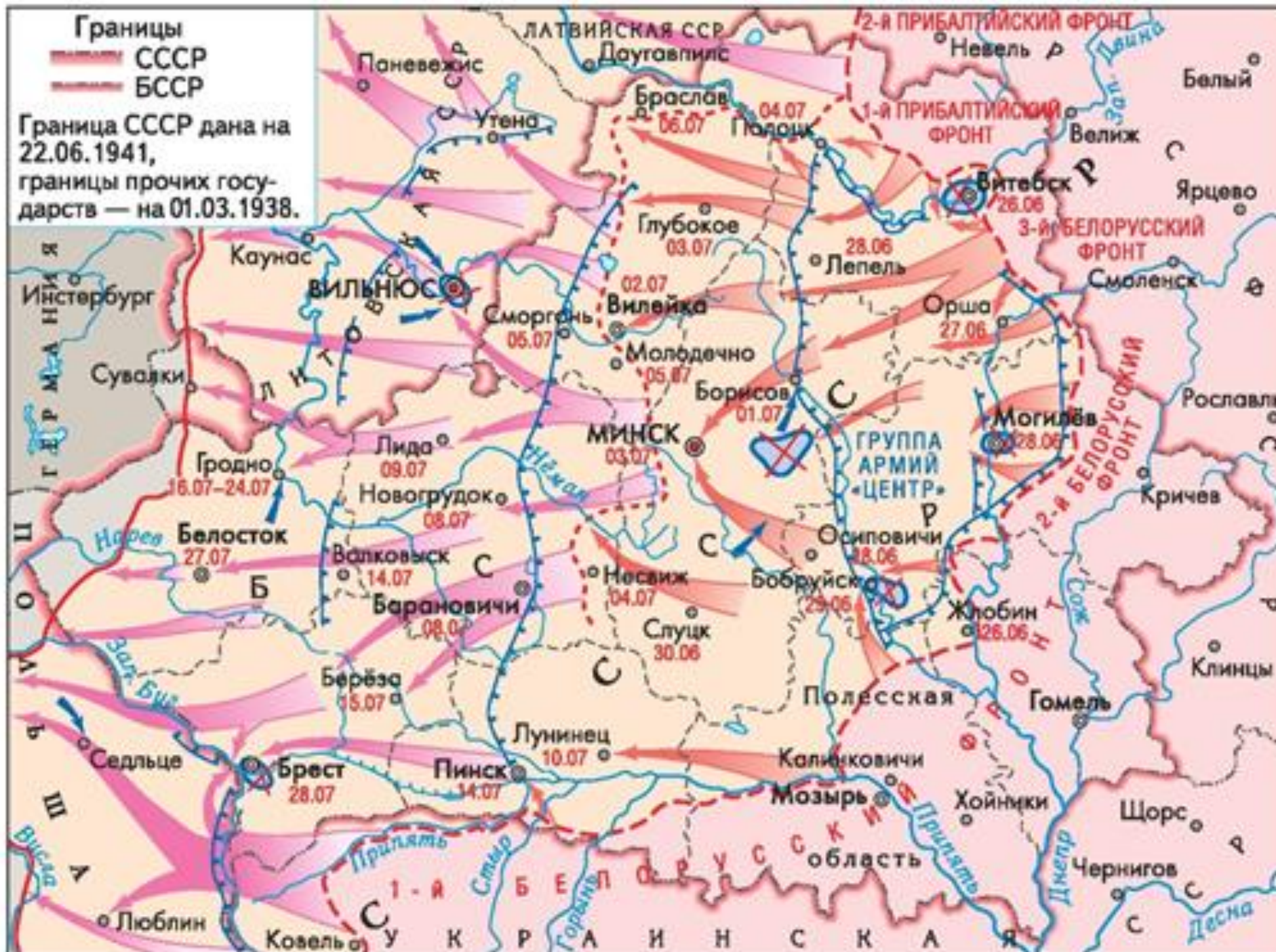
Учебное пособие «История Беларуси в контексте всемирной истории», 11 класс, Ч. 2, с. 20

С опорой на картосхему определите два правильных утверждения:

1. Союзником Германии была Швеция;
2. Западный особый военный округ располагался в Польше;
3. Рубеж, на который должны были выйти немецко-фашистские войска к зиме 1941 г. была р. Волга;
4. Союзником Германии была Финляндия.



План «Барбаросса»



Учебное пособие
по истории Беларуси, 9 класс



Белорусская наступательная операция «Багратион» (23 июня — 29 августа 1944 г.)

Приёмы запоминания дат. Приём «Двойка»

$125\underline{3} \rightarrow 5 - 2 = 3$ – коронация Миндовга

$1323 \rightarrow$ между тройками 2 – Тегимин перенёс столицу в Вильню

$1385 + 2 \rightarrow 1387$ – привилей Ягайло

$143\underline{5} \rightarrow 1(4+3-2)$ – битва под Вилькомиром

1430 – смерть Витовта $+2 =$

1432 – начало династической войны в ВКЛ

$4+3+2 = 143\underline{9}$ – окончание династической войны

1468 – судебник Казимира
 $+2 \quad +2$

Приёмы запоминания дат. Приём «Двойка»

1925 → индустриализация +2 → 1927 – коллективизация

1517 → 15 + 02 – первая печатная книга «Псалтырь»

1529 → 1(5+2+2) – Статут ВКЛ

1566

+22

Статуты ВКЛ

1588

1557 → 15(5+2 (две пятёрки)) – «Устава на волоки»

1579 – открытие Виленской иезуитской академии

+2 +2

Приёмы запоминания дат

1618 г.	<ul style="list-style-type: none">- Деулинское перемирие Речи Посполитой с Россией- начало Тридцатилетней войны в Европе
1861 г.	<ul style="list-style-type: none">- отмена крепостного права в Российской империи- завершение объединения Италии
1896 г.	<ul style="list-style-type: none">- открытие первого в мире кинотеатра в Париже- проведение I Олимпийских игр современности
1918 г.	<ul style="list-style-type: none">- начало Ноябрьской революции в Германии- Брестский мирный договор между Советской Россией и Германией- начало работы Учредительного собрания в России- образование Польши и Чехословакии
1922 г.	<ul style="list-style-type: none">- образование СССР- фашисты пришли к власти в Италии, Б. Муссолини- подписание Англией декларации о предоставлении Египту «независимости»

Приёмы запоминания дат

1923 г.	- провозглашение Турции республикой - образование Коммунистической партии Западной Беларуси
1924 г.	- принятие Конституции в Турции - принятие Конституции в СССР
1925 г.	- основание новой шахской династии Пехлеви в Иране - индустриализация в СССР
1927 г.	- принятие на XV съезде большевистской партии решения о проведении в СССР коллективизации - принятие <u>Конституции в БССР</u> (1919, 1927, 1937, 1978 гг.)
1928 г.	- окончание Северного похода НРА во главе с Чан Кайши и объединение Китая под властью Гоминьдана - начало первой пятилетки в БССР
1949 г.	- НАТО (Организация Североатлантического договора) - Совет Экономической Взаимопомощи (СЭВ)

Приёмы запоминания дат

1951 г.	- создание Европейского объединения угля и стали (ЕОУС) - утверждение нового Государственного флага БССР
1955 г.	- Организация Варшавского договора (ОВД) - утвержден Государственный гимн БССР
1995 г.	- договор о дружбе, добрососедстве и сотрудничестве Беларуси и России - Всемирная торговая организация (ВТО)
2014 г.	- договор об учреждении Евразийского экономического союза (ЕАЭС) был подписан в Астане - Указ «О деятельности Китайско-Белорусского индустриального парка «Индустриальный парк «Великий камень»
2024 г.	Республика Беларусь стала страной – партнером БРИКС, ШОС

