



СШ № 1 г. Березы имени В.Х. Головки

Формирование

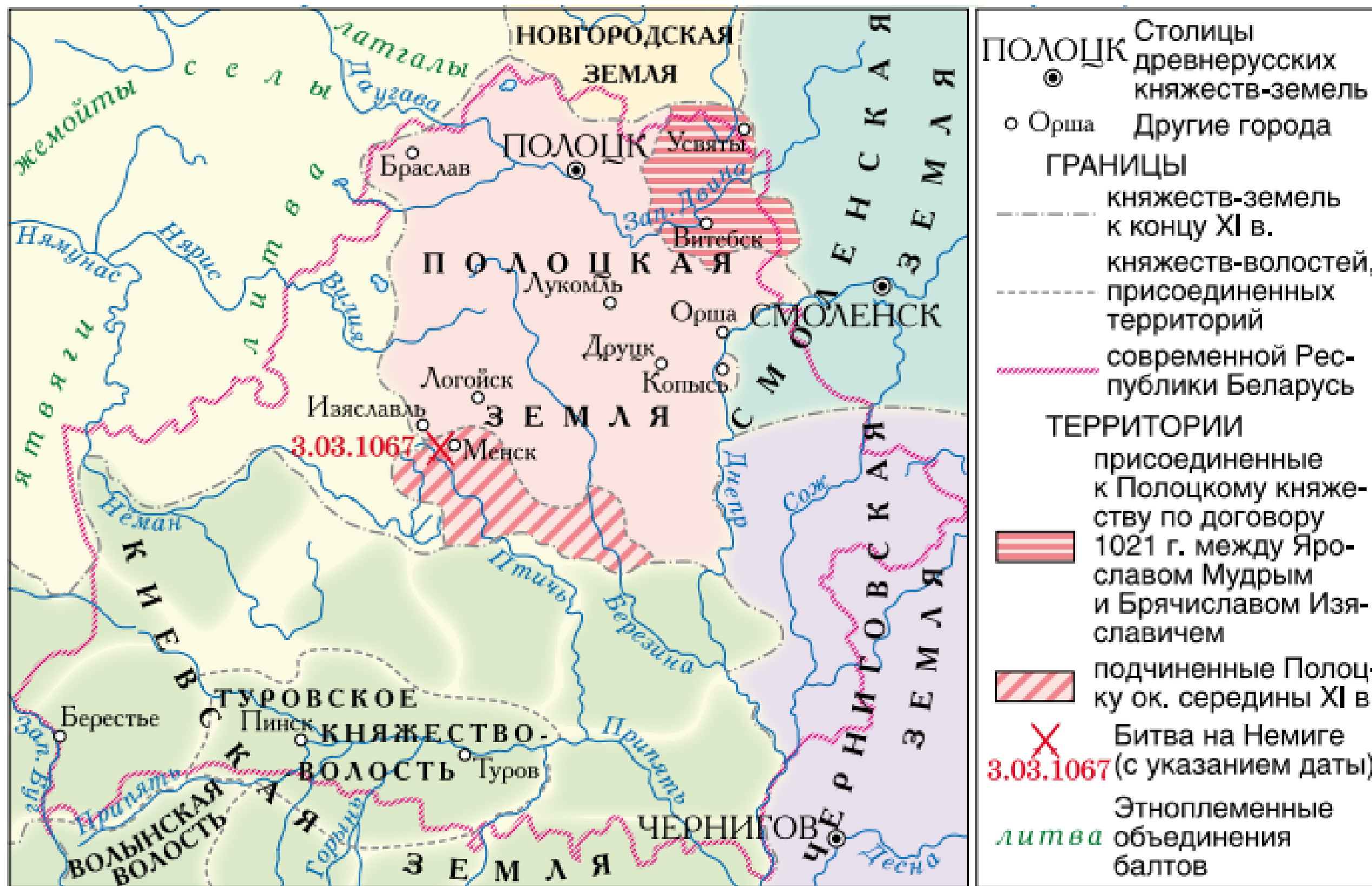
картографических умений  
и навыков при подготовке

к ЦЭ и ЦТ.

Приёмы запоминания дат

Рутич Галина Михайловна





С опорой на картосхему определите два правильных утверждения:

1. Этноплеменным объединением балтов были латгалы;
2. Битва на Немиге произошла 03.03.1069 г.;
3. В 1021 г. к Полоцкому княжеству были присоединены Усвяты и Витебск;
4. Орша входила в состав Смоленской земли.

Государственность на белорусских землях в XI в.

Используя картосхему, назовите направления расширения границ Полоцкого княжества.



Учебное пособие  
«История Беларуси  
в контексте  
всемирной  
истории»,  
10 класс, Ч. 1, с. 191

*Распространение христианства*

Почему официальный отсчет истории христианства в Беларуси начинается с 992 г.?

Образование и рост территории ВКЛ. Военные события

Образование и рост территории ВКЛ. События

присоединения земель к ВКЛ. Соотнесите территории со способом (путём) их включения в состав ВКЛ.

**Задание для размышления:** Какие внешнеполитические факторы способствовали и какие препятствовали процессу образования Великого Княжества Литовского? Приведите примеры, используя карту.



**Проект «История Беларуси во времени и пространстве» (10 класс)**  
<https://boxapps.adu.by/public/game/1225>

<https://boxapps.adu.by/public/game/792>

1

В результате договора с местными князьями и знатью

2

В результате династического брака

3


В результате завоевания

Активация Windows  
Чтобы активировать Windows, перейдите в раздел "Параметры"

# Учебное пособие «История Беларуси в контексте всемирной истории», 10 класс, Ч. 2, с. 107



ГРАНИЦЫ	ТЕРРИТОРИИ
----- государств в 1392 г.	■ непосредственного владения Витовта в 1392 г.
— ВКЛ к 1430 г.	■ присоединенные к ВКЛ при Витовте
..... присоединенных территорий современной Республики Беларусь	■ запустевшие в результате набегов татар
1411 Годы присоединения территорий к ВКЛ	■ Новгородская Земля Государства, зависимые от Витовта к 1430 г.



- Территория ВКЛ до Люблинской унии
- Территории, аннексированные Польшей в 1569 г.
- Военные действия в ходе Ливонской войны
- Речь Посполитая в конце XVI в.



<https://boxapps.adu.by/public/game/1225>

Великое Княжество Литовское в конце XIV — первой половине XV в.

# Учебное пособие «История Беларуси в контексте всемирной истории», 10 класс, Ч. 2, с. 202, с. 206, с. 210



<ul style="list-style-type: none"> <li>● МОСКВА Столицы государств</li> <li>● ТЕШИН Столицы феодальных владений</li> <li>● Полоцк Центры воеводств Речи Посполитой</li> <li>● Гомель Другие населенные пункты</li> </ul> <p><b>ГРАНИЦЫ</b></p> <ul style="list-style-type: none"> <li>----- государств в начале XVII в.</li> <li>----- зависимых государств, между ВКЛ и Польшей</li> <li>----- присоединенных/потерянных территорий Речи Посполитой после 1634 г.</li> <li>----- современной Республики Беларусь</li> </ul> <p><b>ТЕРРИТОРИИ</b></p> <ul style="list-style-type: none"> <li>Речи Посполитой в 1618–1634 гг.</li> <li>Османской империи и ее вассалов в начале XVII в.</li> <li>совместных владений ВКЛ и Польши</li> <li>присоединенные к Речи Посполитой по условиям Деулинского перемирия 1618 г.</li> <li>владений австрийских Габсбургов в начале XVII в.</li> </ul>	<p>Российского царства в 1618–1634 гг. утвержденного за Россией согласно условиям Полновокского мира 1634 г.</p> <p><b>ПОХОДЫ ВОЙСК</b></p> <ul style="list-style-type: none"> <li>ВКЛ против шведов</li> <li>Шведского королевства</li> <li>Речи Посполитой против Османской империи</li> <li>Османской империи</li> <li>Лжедмитрия I в 1604–1605 гг.</li> <li>Сигизмунда II в 1609–1611 гг. и Владислава IV на Москву в 1617–1618 гг.</li> <li>Российского царства в 1632–1634 гг.</li> </ul> <p>Осады городов (с указанием года)</p> <p>Крупнейшие сражения (с указанием года)</p> <p><b>МЕСТА И ДАТЫ ЗАКЛЮЧЕНИЯ</b></p> <ul style="list-style-type: none"> <li>Деулинского перемирия (1618)</li> <li>Альтмаркского перемирия (1629)</li> <li>Поляновского мира (1634)</li> </ul>
---	--

Военные действия Речи Посполитой в первой половине XVII в.



<ul style="list-style-type: none"> <li>● ВИАЛНО Столицы государств</li> <li>● ПОЛОЦК Центры воеводств Речи Посполитой</li> <li>● Друцк Центры поветов Речи Посполитой</li> <li>● Борисов Прочие города и населенные пункты</li> </ul> <p><b>ГРАНИЦЫ</b></p> <ul style="list-style-type: none"> <li>----- государств в середине XVII в.</li> <li>----- Речи Посполитой в конце XVI в.</li> <li>----- присоединенных территорий современной Республики Беларусь</li> </ul> <p>Рубеж территорий, находившихся к 1658 г. под контролем</p> <ul style="list-style-type: none"> <li>российских войск</li> <li>казачьих (украинских) войск</li> </ul> <p>Места и годы заключения</p> <ul style="list-style-type: none"> <li>Кейданской унии ВКЛ и Швеции 1655</li> <li>Вилenskого перемирия 1659</li> <li>Андрусовского перемирия 1667</li> </ul>	<p><b>ТЕРРИТОРИИ</b></p> <ul style="list-style-type: none"> <li>совместного владения ВКЛ и Польши</li> <li>перешедшие к России по условиям Андрусовского перемирия</li> </ul> <p><b>ПЕРЕМЕЩЕНИЕ ВОЙСК</b></p> <p>Речи Посполитой</p> <ul style="list-style-type: none"> <li>в 1654–1656 гг.</li> <li>в 1658–1667 гг.</li> </ul> <p>Российского царства</p> <ul style="list-style-type: none"> <li>в 1654 г.</li> <li>в 1658–1667 гг.</li> </ul> <p>Шведского королевства</p> <ul style="list-style-type: none"> <li>украинских казаков</li> </ul> <p>Осады городов (успешные и безрезультатные)</p> <ul style="list-style-type: none"> <li>Восстания в городах против царской власти</li> <li>Места сосредоточения российских войск</li> </ul>
--	--

Территория Беларуси в войне Российского государства с Речью Посполитой 1654–1667 гг.

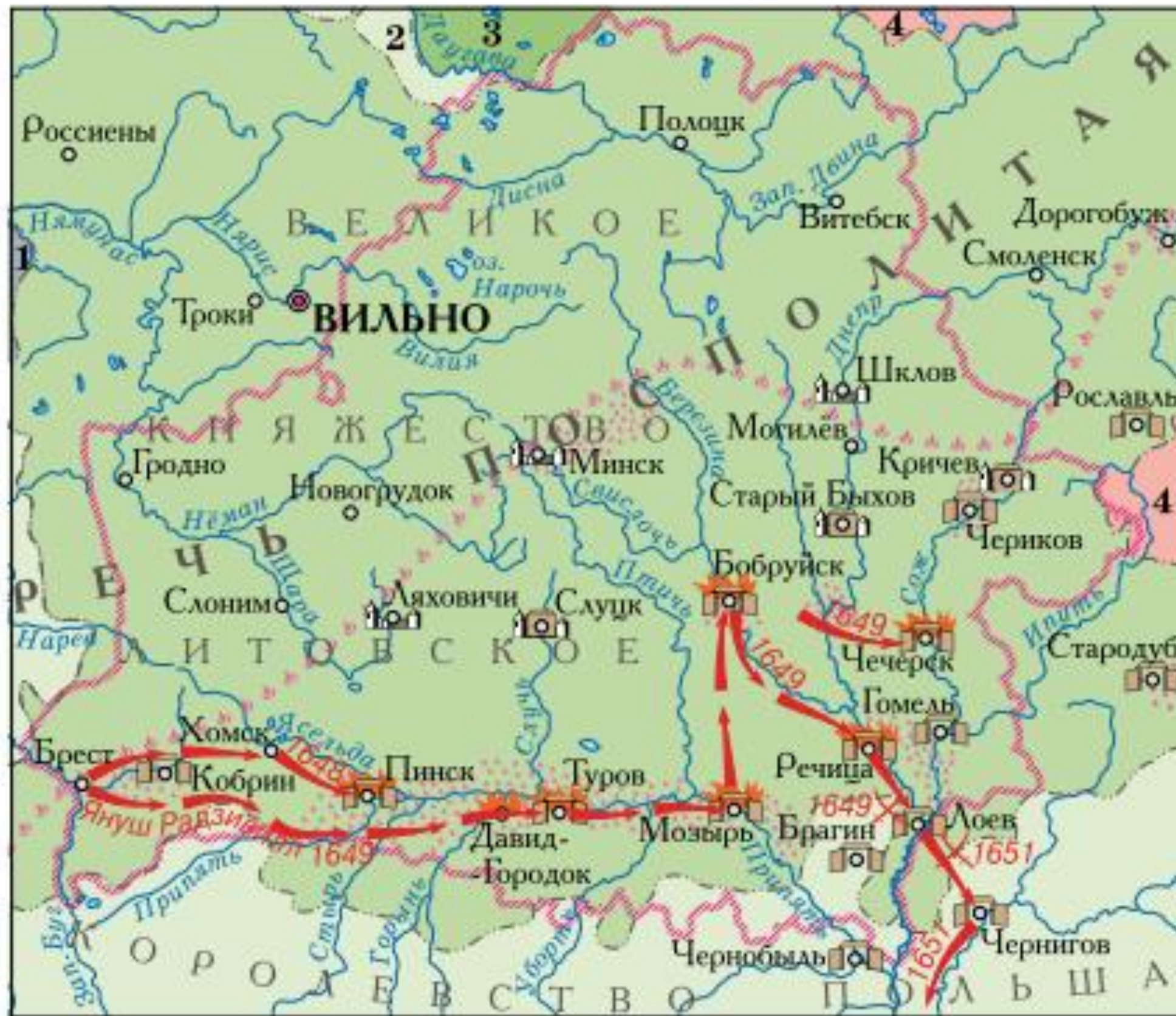
Воспользуйтесь картосхемой и дополните информацию о событиях войны 1654–1667 гг.



<ul style="list-style-type: none"> <li>● ВИАЛНО Столицы государств</li> <li>● ПОЛОЦК Центры воеводств Речи Посполитой и губерний России</li> <li>● Орша Центры поветов Речи Посполитой и уездов России</li> <li>● Слуцк Другие населенные пункты</li> <li>● Несвиж Населенные пункты, разрушенные в годы войны</li> </ul> <p><b>ГРАНИЦЫ</b></p> <ul style="list-style-type: none"> <li>----- государств на середину XVIII в.</li> <li>----- зависимых государств и территорий, между ВКЛ и Польшей</li> <li>----- современной Республики Беларусь</li> </ul>	<p><b>ДВИЖЕНИЕ ВОЙСК</b></p> <ul style="list-style-type: none"> <li>российских</li> <li>шведских</li> </ul> <p>Места концентрации войск России</p> <p>Блокада шведами Гродно в 1706 г.</p> <p>Важнейшие битвы (с датами)</p> <p>На карте цифрами обозначены:</p> <ol style="list-style-type: none"> <li>Курляндское и Земгальское герцогство (вассал Речи Посполитой)</li> <li>Инфлянтское воеводство (совместное владение ВКЛ и Королевства Польша)</li> <li>Королевство Пруссия</li> <li>Королевство Польша</li> </ol>
--	--

Северная война

Используя картосхему, составьте рассказ о событиях Северной войны на территории Беларуси.



- 
 Населенные пункты наиболее сильно укрепленные – места сбора войск ВКЛ
- 
 занятые казаками
- 
 которые казаки не смогли захватить
- 
 наиболее пострадавшие за годы войны
- 
 Северная граница территорий, охваченных казацко-крестьянской войной
- 
 Районы крестьянских волнений и складывания казачьих отрядов (загонов)
- 
 Действия войск ВКЛ
- 
 Наиболее значительные битвы (с годами)
- Цифрами на карте обозначены:
  - 1 – Герцогство Пруссия (вассал Королевства Польша);
  - 2 – Курляндское и Земгальское герцогство (вассал Речи Посполитой);
  - 3 – Польские Инфлянты (совместное владение Польши и ВКЛ);
  - 4 – Российское царство

Казацко-крестьянская война 1648–1651 гг. на территории Беларуси

Учебное пособие «История Беларуси в контексте всемирной истории», 10 класс, Ч. 2, с. 204

1. Укажите белорусские города, через которые проходила северная граница территорий, охваченных казацко-крестьянской войной.

Разделы Речи Посполитой

Конфедерации

Речь Посполитая накануне разделов

Первый раздел Речи Посполитой

Второй раздел Речи Посполитой

Третий раздел Речи Посполитой

ВКЛ в 1793–1795 гг.

**Территория:** Польская часть Ливонии (Инфлянты), восточная Беларусь – до Двины, Друти и Днепра.

**Потерянные города:** Витебск, Полоцк, Мстиславль, Орша, Гомель, Могилев.

**Площадь:** 92 тыс. км<sup>2</sup>

**Население:** 1 млн 300 тыс. чел.



Активация Windows

Чтобы активировать Windows, перейдите в раздел "Параметры".

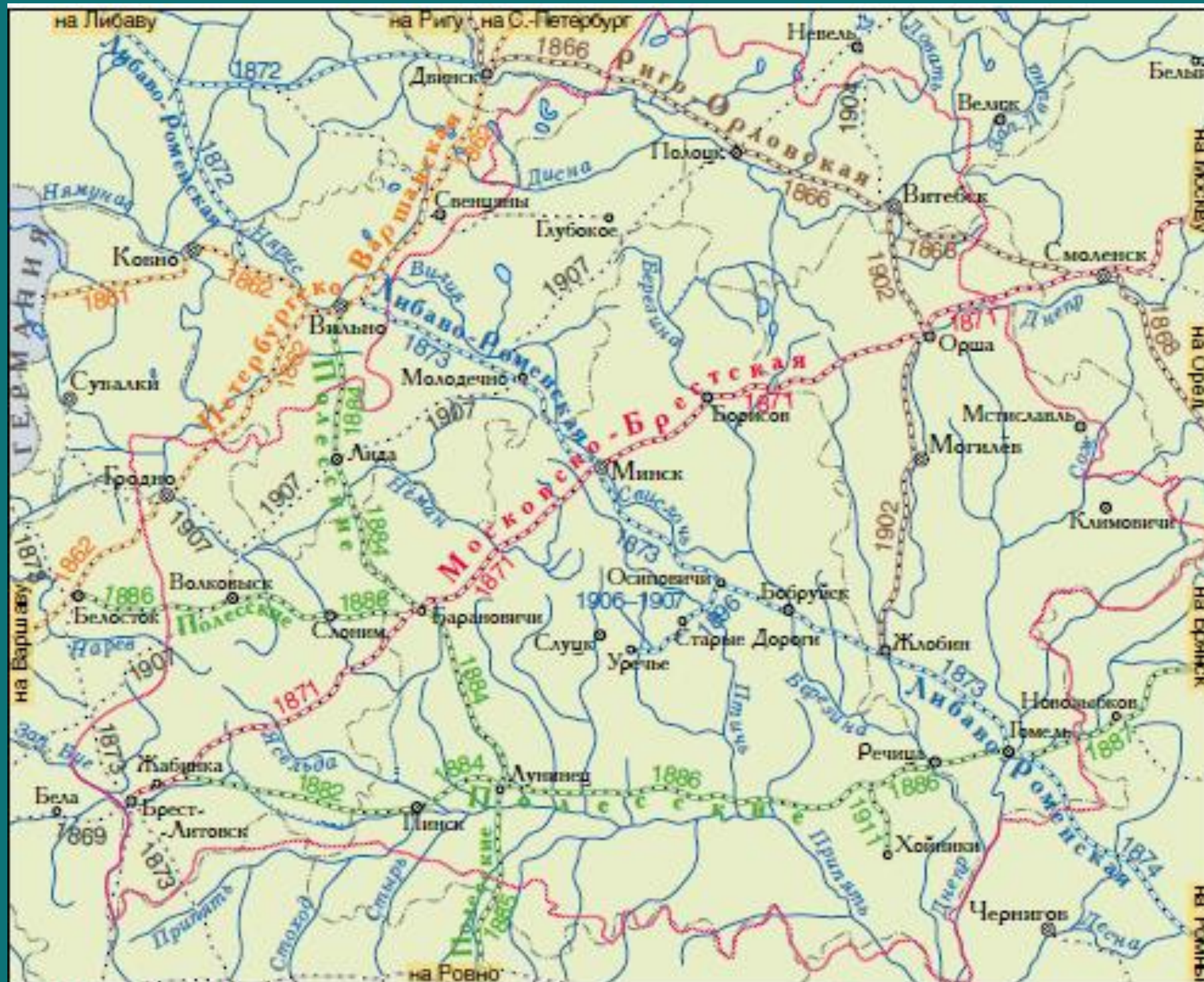


Схема железнодорожных путей во второй половине XIX — начале XX в.

Рассмотрите железнодорожную сеть Беларуси. Какие железные дороги и в каком году были построены? Через какие белорусские города они проходили? Как изменилась роль этих городов после строительства железной дороги?

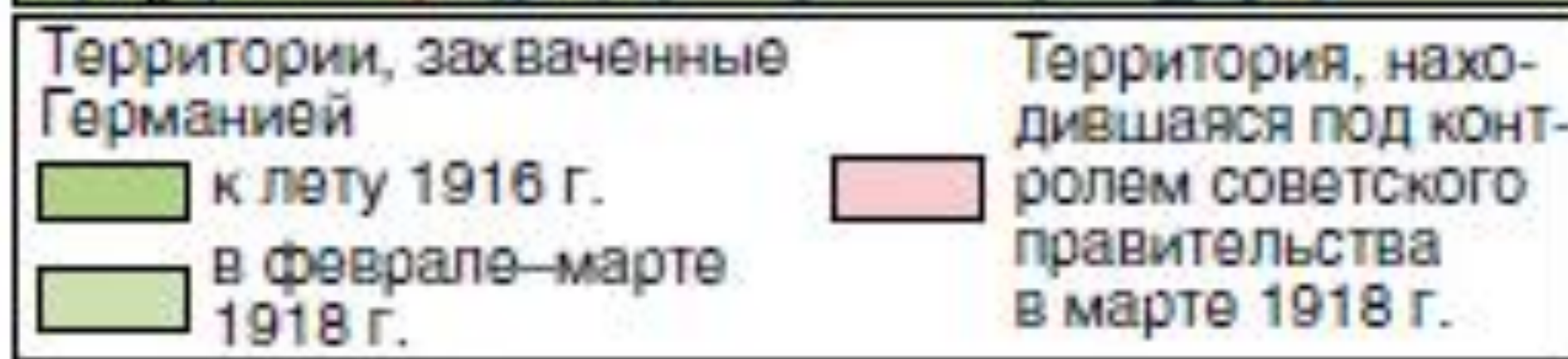
## Учебное пособие по истории Беларуси 8 класс.

1. Найдите на картосхеме названия построенных на территории Беларуси железных дорог.
2. Охарактеризуйте их роль в росте городов.

## Учебное пособие «История Беларуси в контексте всемирной истории», 11 класс, Ч. 1, с. 100



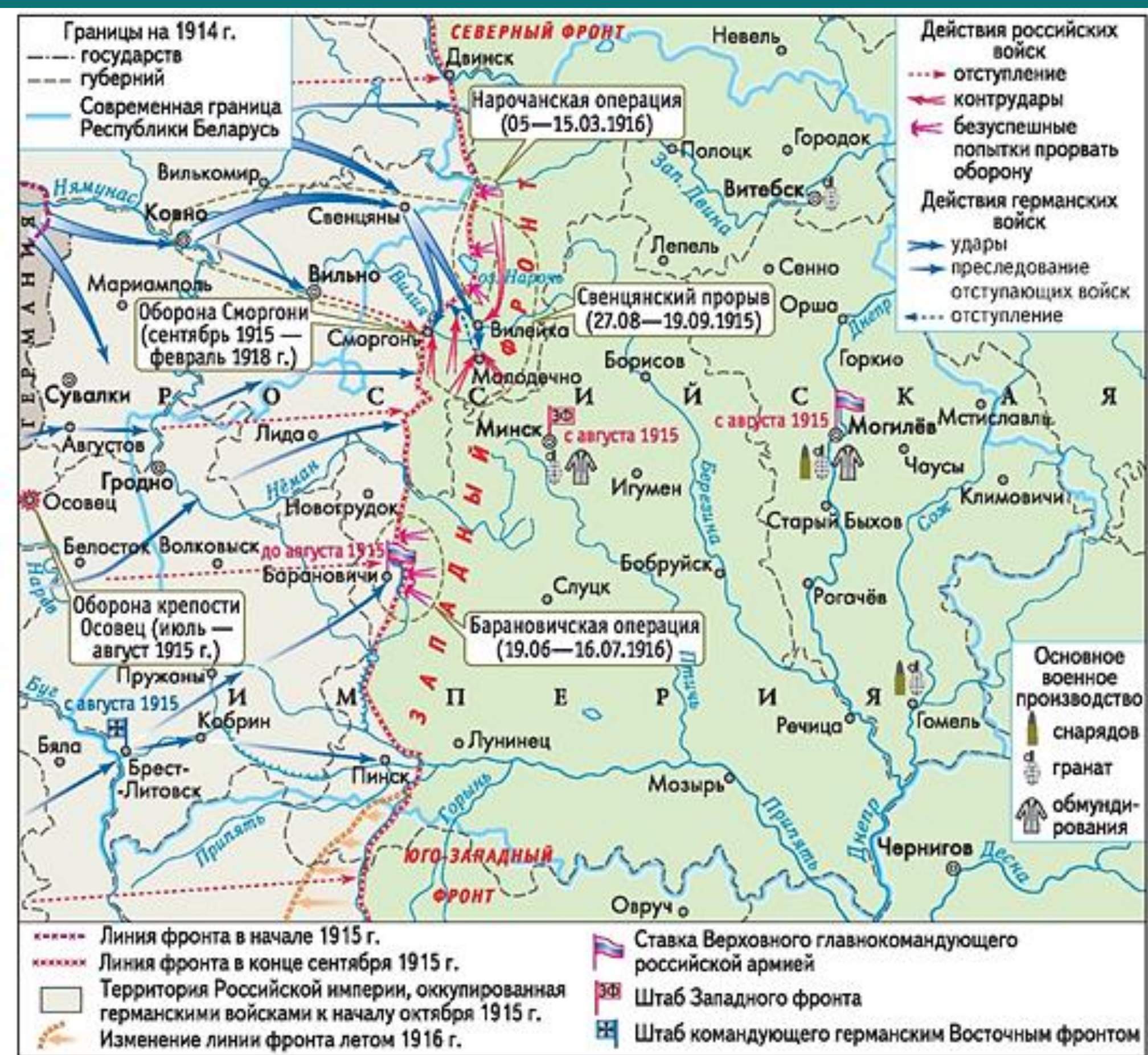
Какая железная дорога проходила через ваш населённый пункт?



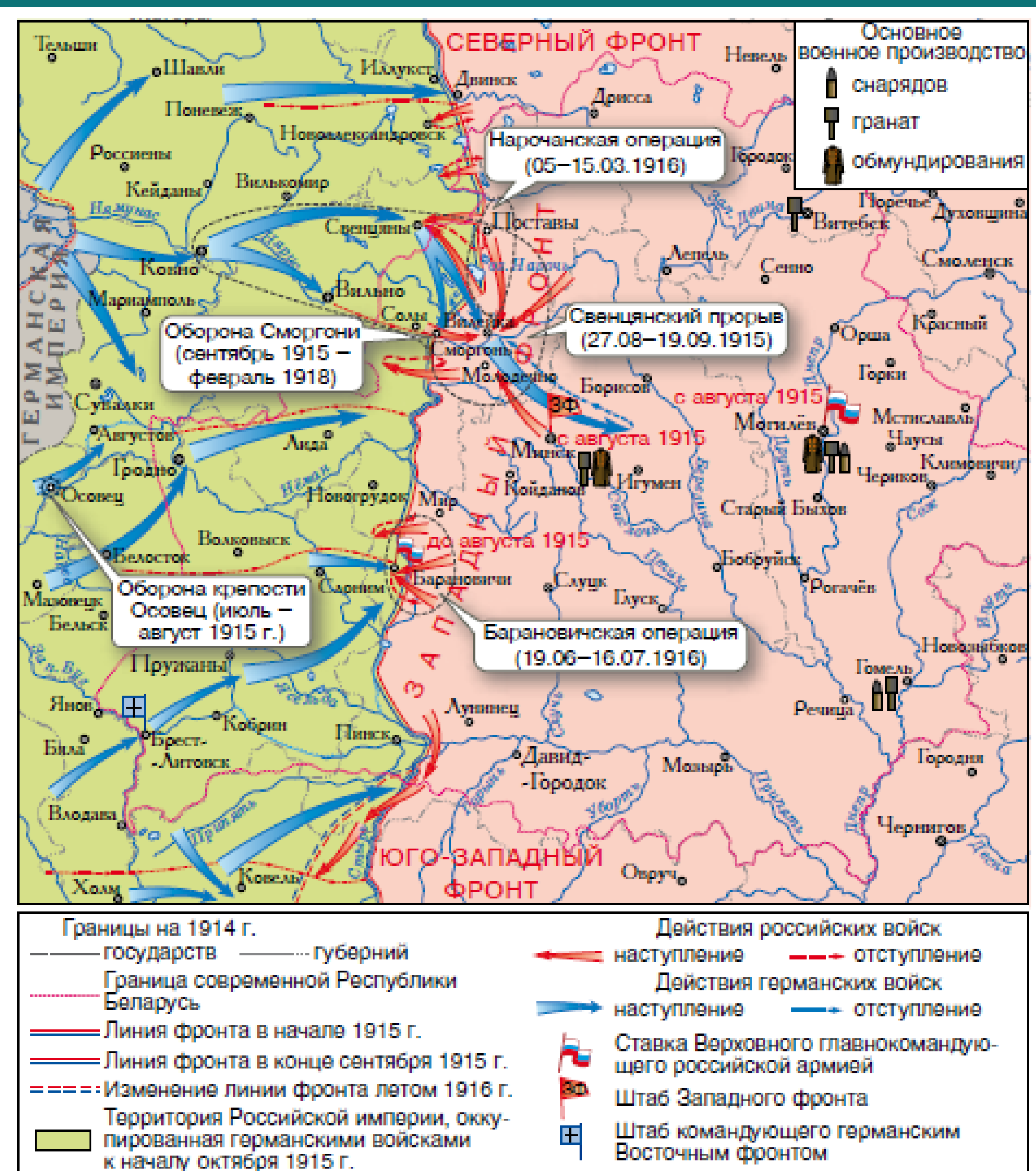
Используя картосхему, охарактеризуйте положение вашего региона в годы Первой мировой войны.

Учебное пособие «История Беларуси в контексте всемирной истории», 11 класс, Ч. 1, с. 175

*Территория Беларуси, захваченная Германией в Первой мировой войне*



Беларусь в годы Первой мировой войны



11 класс, Ч. 1, с. 190

Первая мировая война на территории Беларуси

Белорусские губернии

Укажите на карте города, о которых идет речь

<https://boxapps.adu.by/public/game/852>

Укажите на карте города, о которых идет речь.

- 1
- 2
- 3
- 4
- 5
- 6
- 7
- 8
- 9
- 10

Город, оборона которого во время Первой мировой войны продолжалась 810 дней. ? Помощь

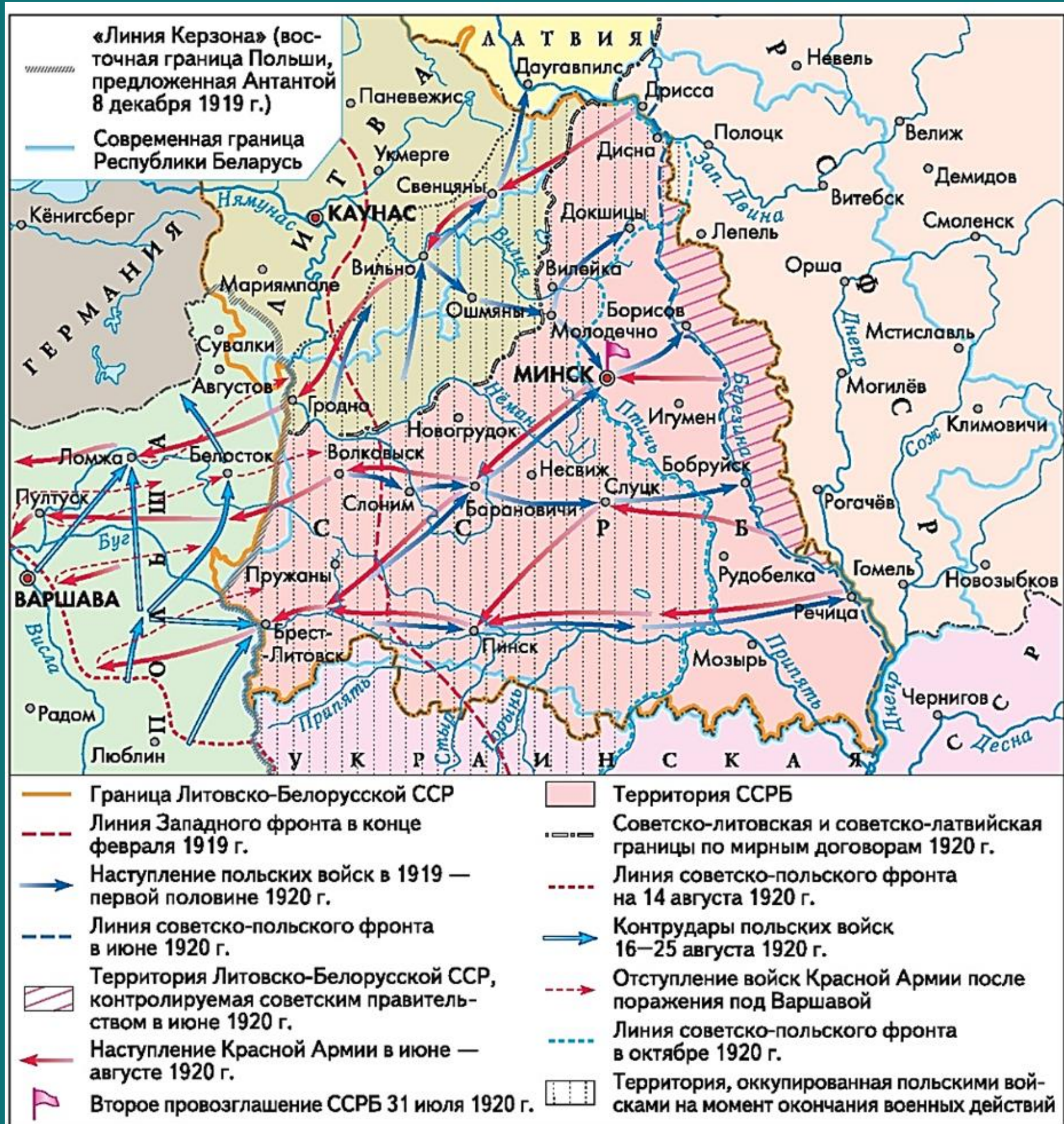
Сморгонь

**Проект «История  
Беларуси во  
времени и  
пространстве»  
(11 класс)**

[https://boxapps.adu.  
by/public/game/1226](https://boxapps.adu.by/public/game/1226)



Активация Windows  
Чтобы активировать Windows, перейдите в раздел "Параметры".



Беларусь в марте 1919—1920 г.

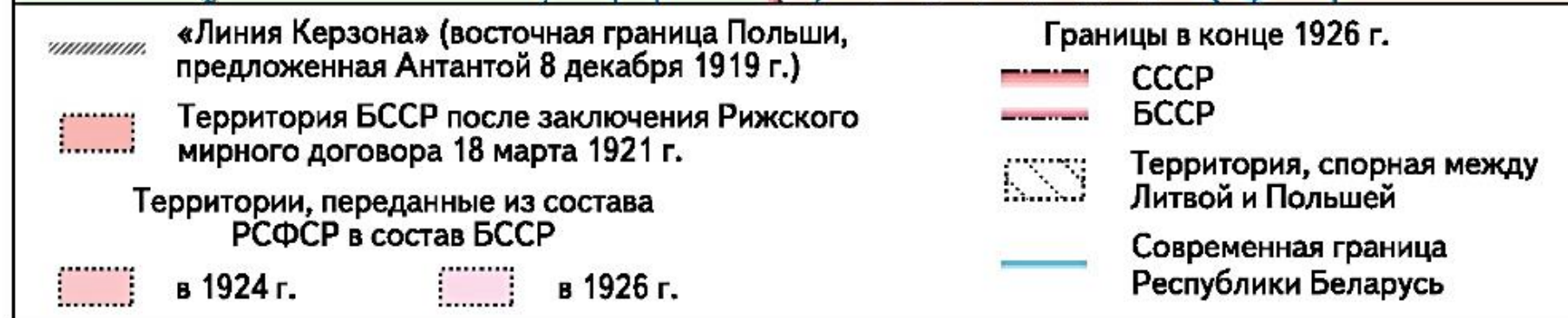
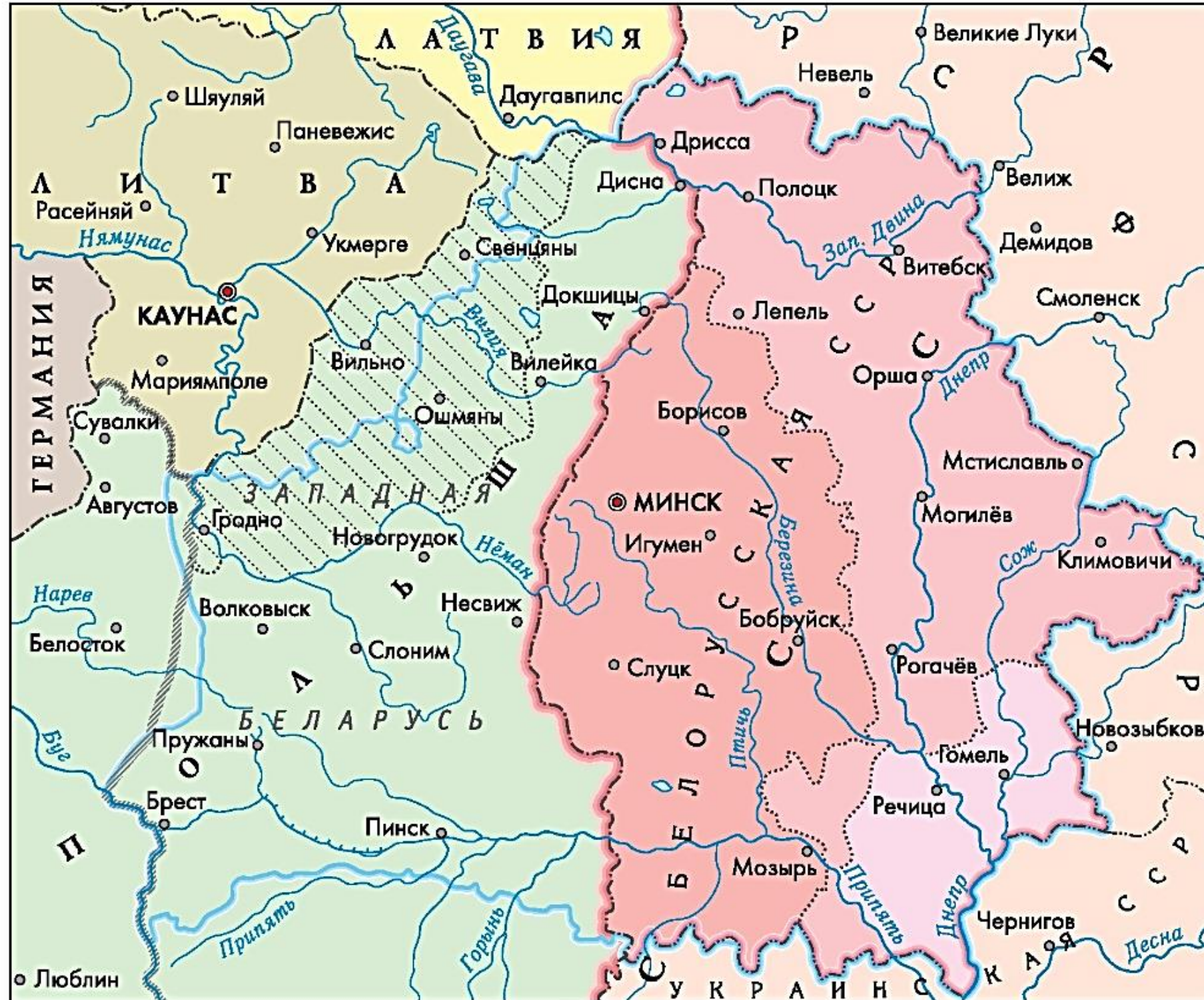
## Укажите верные утверждения.

1. Второе провозглашение ССРБ произошло 1 июля 1920 г.
2. Второе провозглашение ССРБ произошло 31 июля 1920 г.
3. Второе провозглашение ССРБ было в г. Смоленске.
4. Второе провозглашение ССРБ было в г. Минске.

## Укажите на карте.

1. Линию советско-польского фронта в июне 1920 г.
2. Территорию, оккупированную польскими войсками на момент окончания советско-польской войны.

**Беларусь по условиям Рижского мирного договора.  
Укрупнение БССР в 1924 и 1926 гг.**



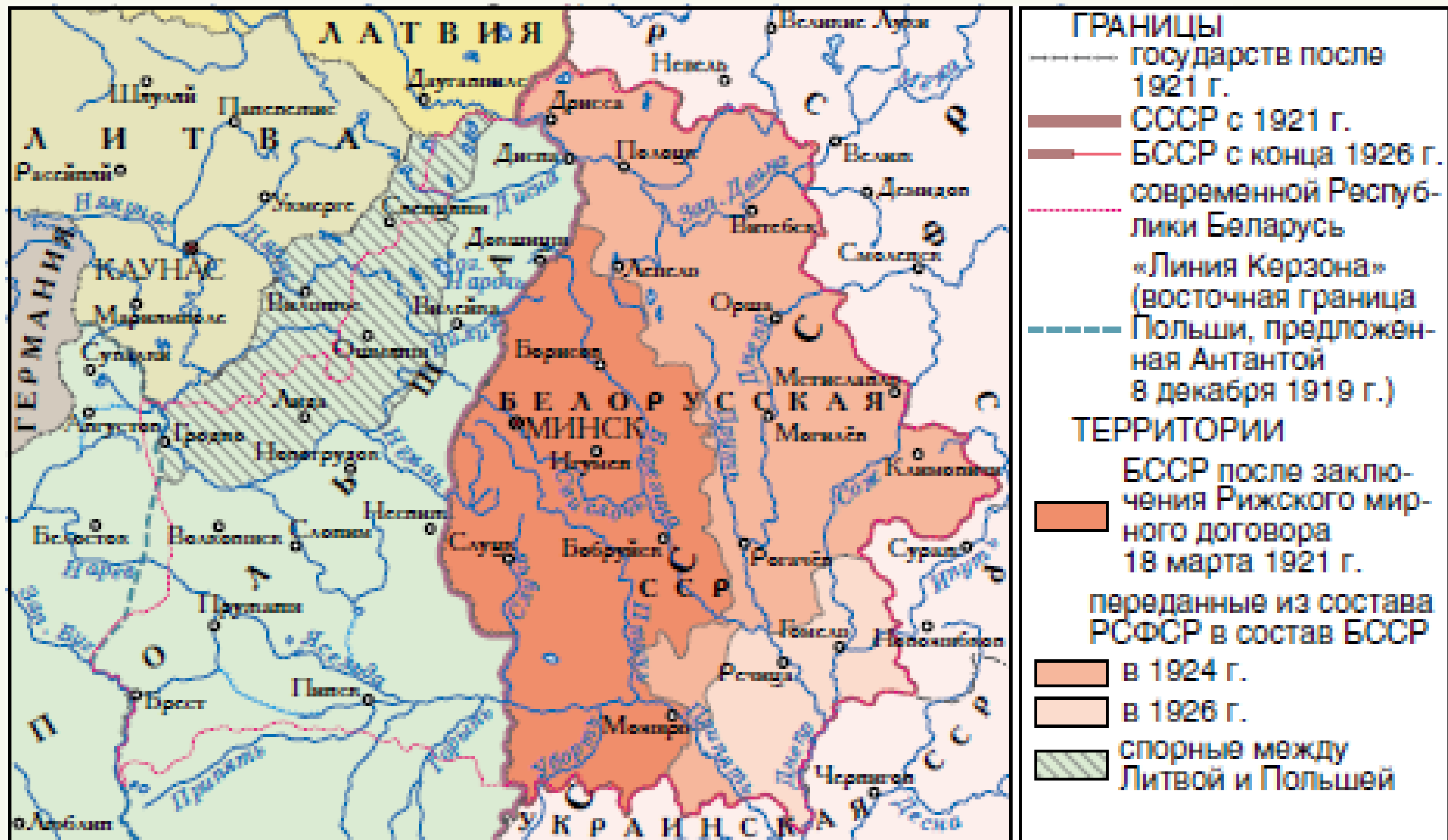
**Укажите верные утверждения.**

1. Первое укрупнение ССРБ произошло в 1924 г.
2. Первое укрупнение ССРБ произошло в 1925 г.
3. Второе укрупнение ССРБ произошло в 1926 г.
4. Второе укрупнение ССРБ произошло в 1927 г.

**Укажите на карте.**

1. Территорию первого укрупнения БССР.
2. Территорию второго укрупнению БССР.
3. Территорию Западной Беларуси.

**Докажите,** что территориальные и политические изменения на наших землях в период с 1919 по 1926 гг. стали важным этапом в становлении суверенного белорусского государства.




Формирование территории БССР в 1921–1926 гг.

1. Какой была территория ССРБ после заключения Рижского мирного договора?
2. Как изменилась территория БССР в 1924 и 1926 гг.?
3. В каком году и в результате каких событий Западная Беларусь была воссоединена с БССР?

Учебное пособие  
 «История Беларуси в  
 контексте всемирной  
 истории»,  
 11 класс, Ч. 1, с. 266

# Изменение территории БССР в 1921–1940 гг.



Проследите за изменением территории БССР в 1921–1939 гг. Какими внешними факторами были обусловлены векторы (восточный и западный) расширения территории БССР в 1921–1939 гг.?



Изменение территории БССР в 1939–1940 гг.

Какому государству принадлежали города в 1921 г.

Какому государству принадлежали города в 1924 г.

Какому государству принадлежали города в 1926 г.

<https://boxapps.adu.by/public/game/902>



БССР

РСФСР

Польша

Бобруйск

Речица

Пинск

Минск

Витебск

Гродно

Активация Windows  
Чтобы активировать Windows, перейдите в раздел "Параметры".

Изменение территории БССР в 1939–1940 гг.

Какому государству принадлежали города в 1921 г.

Какому государству принадлежали города в 1924 г.

Какому государству принадлежали города в 1926 г.

<https://boxapps.adu.by/public/game/902>

Беларусь в 1921–1939 гг.

Первое укрупнение БССР

Второе укрупнение БССР

Западная Беларусь в 1921–1939 гг.

Воссоединение Западной Беларуси с БССР

Национальное размежевание между БССР и Литовской ССР

1921 г.

Рижский мирный договор от 18 марта 1921 г. закрепил западную границу Социалистической Советской Республики Белоруссии (в последующем – БССР).

Столица – Минск.

Площадь – 52,4 тыс. км<sup>2</sup>.

Население – 1 млн 544 тыс. чел.



Рижский мирный договор от 18 марта 1921 г.



Активация Windows  
Чтобы активировать Windows, перейдите в раздел "Параметры".

# *Магнитная карта*





↓  
Западная  
Беларусь  
1921-1939 гг.

18 марта

↓  
6 уездов  
Минской  
губернии  
1921-1924 гг.

↓  
16.01.1919г.  
Витебская,  
Могилёвская  
и Смоленская  
губернии вошли в  
состав РСФСР



↓  
Западная  
Беларусь  
1921-1939 гг.

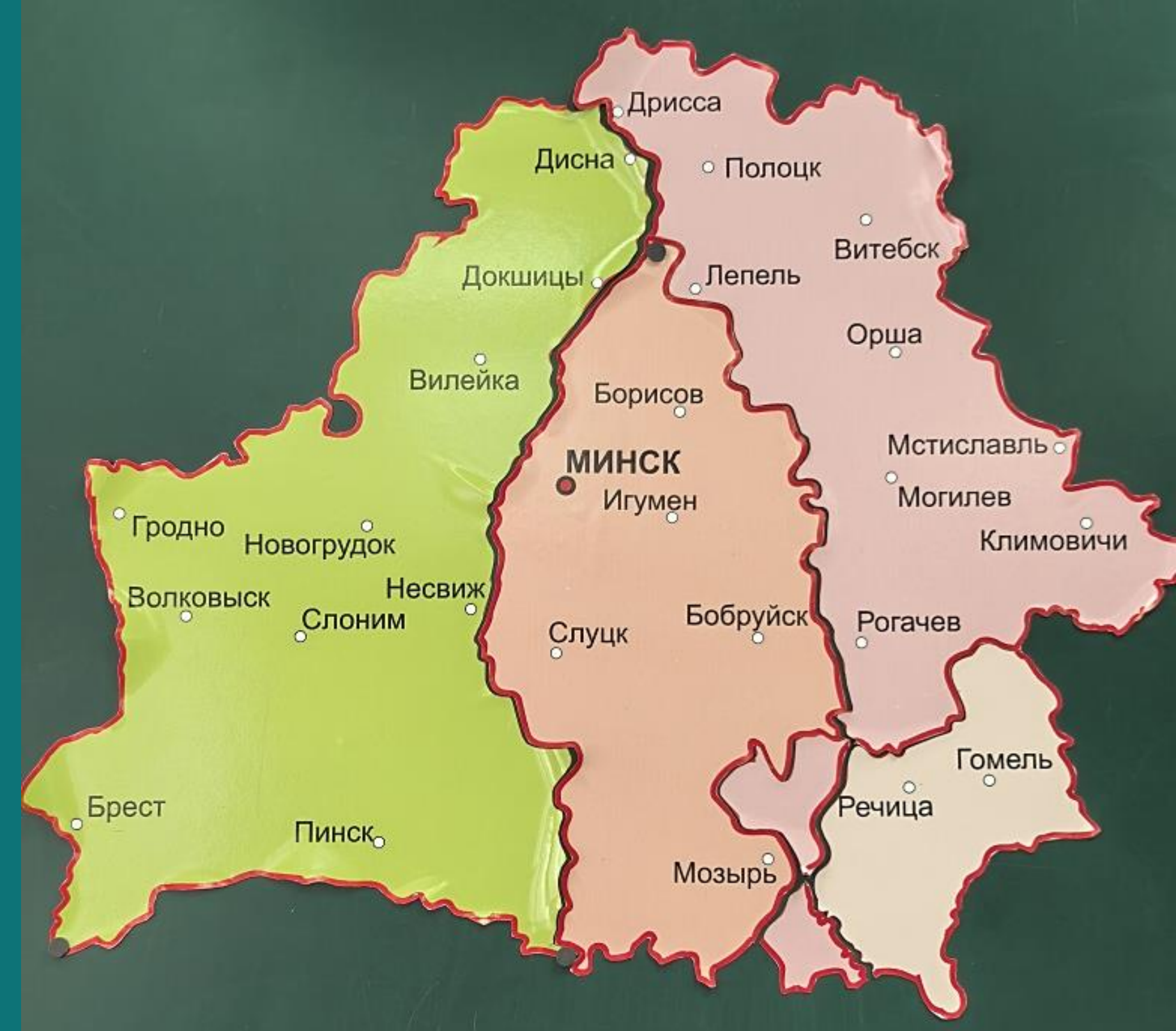
↓  
1924 г. – +2  
I укрупнение БССР

↓  
Территория  
1924-1926 гг. БССР



↓  
Западная  
Беларусь  
1921-1939 гг.

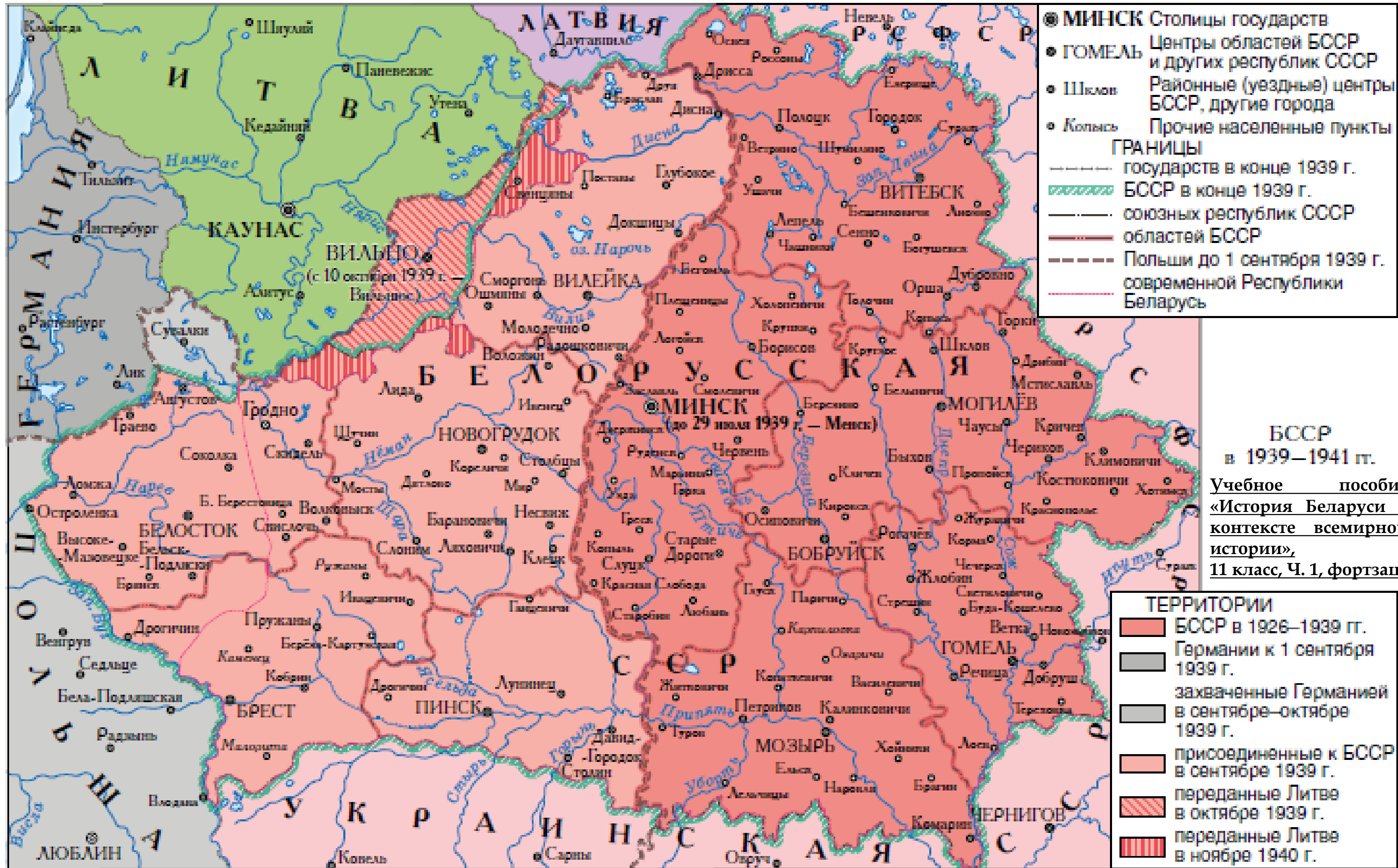
↓  
**+2** - 1926 г. -  
II укрупнение БССР  
Территория БССР  
1926-1939 гг.



→  
17 сентября 1939 гг. присоединение  
Западной Беларуси к БССР



**Карта и общественно-политические процессы в Западной Беларуси и БССР**

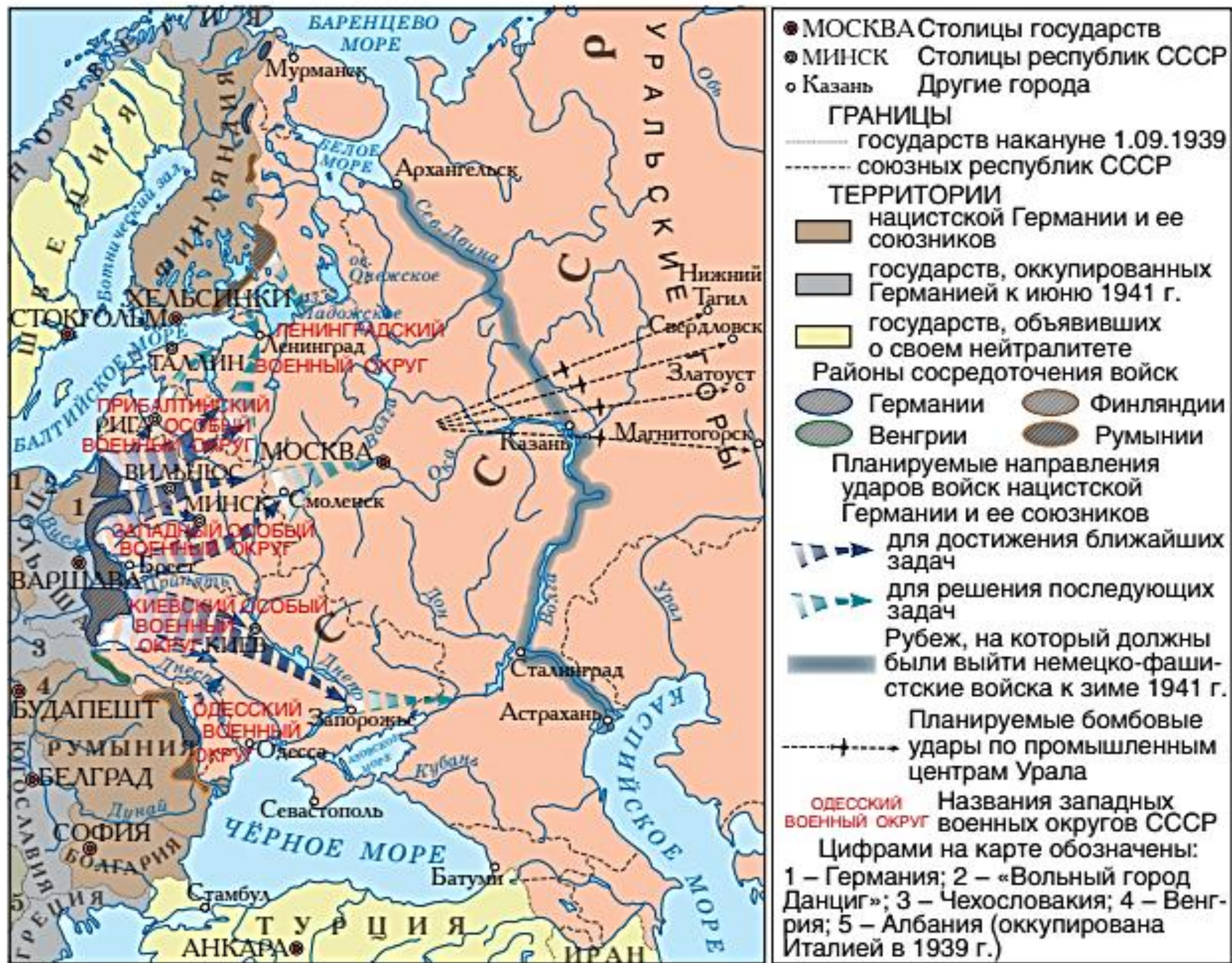


Учебное пособие  
 «История Беларуси в  
 контексте всемирной  
 истории»,  
 11 класс, Ч. 1, форзац

Учебное пособие «История Беларуси в контексте всемирной истории», 11 класс, Ч. 2, с. 20

С опорой на картосхему определите два правильных утверждения:

1. Союзником Германии была Швеция;
2. Западный особый военный округ располагался в Польше;
3. Рубеж, на который должны были выйти немецко-фашистские войска к зиме 1941 г. была р. Волга;
4. Союзником Германии была Финляндия.



План «Барбаросса»



# Приёмы запоминания дат. Приём «Двойка»

$125\underline{3} \rightarrow 5 - 2 = 3$  – коронация Миндовга

$1323 \rightarrow$  между тройками  $2$  – Тегимин перенёс столицу в Вильно

$1385 + 2 \rightarrow 1387$  – привилей Ягайло

$143\underline{5} \rightarrow 1(4+3-2)$  – битва под Вилькомиром

$1430$  – смерть Витовта  $+2 =$

$1432$  – начало династической войны в ВКЛ

$4+3+2 = 143\underline{9}$  – окончание династической войны

$1468$  – судебник Казимира  
 $+2 \quad +2$

# Приёмы запоминания дат. Приём «Двойка»

1925 → индустриализация +2 → 1927 – коллективизация

1517 → 15 + 02 – первая печатная книга «Псалтырь»

1529 → 1(5+2+2) – Статут ВКЛ

1566

+22

Статуты ВКЛ

1588

1557 → 15(5+2 (две пятёрки)) – «Устава на волокни»

1579 – открытие Виленской иезуитской академии

+2 +2

## ***Приёмы запоминания дат***

<b>1618 г.</b>	<ul style="list-style-type: none"><li>- Деулинское перемирие Речи Посполитой с Россией</li><li>- начало Тридцатилетней войны в Европе</li></ul>
<b>1861 г.</b>	<ul style="list-style-type: none"><li>- отмена крепостного права в Российской империи</li><li>- завершение объединения Италии</li></ul>
<b>1896 г.</b>	<ul style="list-style-type: none"><li>- открытие первого в мире кинотеатра в Париже</li><li>- проведение I Олимпийских игр современности</li></ul>
<b>1918 г.</b>	<ul style="list-style-type: none"><li>- начало Ноябрьской революции в Германии</li><li>- Брестский мирный договор между Советской Россией и Германией</li><li>- начало работы Учредительного собрания в России</li><li>- образование Польши и Чехословакии</li></ul>
<b>1922 г.</b>	<ul style="list-style-type: none"><li>- образование СССР</li><li>- фашисты пришли к власти в Италии, Б. Муссолини</li><li>- подписание Англией декларации о предоставлении Египту «независимости»</li></ul>

# Приёмы запоминания дат

1923 г.	<ul style="list-style-type: none"><li>- провозглашение Турции республикой</li><li>- образование Коммунистической партии Западной Беларуси</li></ul>
1924 г.	<ul style="list-style-type: none"><li>- принятие Конституции в Турции</li><li>- принятие Конституции в СССР</li></ul>
1925 г.	<ul style="list-style-type: none"><li>- основание новой шахской династии Пехлеви в Иране</li><li>- индустриализация в СССР</li></ul>
1927 г.	<ul style="list-style-type: none"><li>- принятие на XV съезде большевистской партии решения о проведении в СССР коллективизации</li><li>- принятие <u>Конституции в БССР</u> (1919, 1927, 1937, 1978 гг.)</li></ul>
1928 г.	<ul style="list-style-type: none"><li>- окончание Северного похода НРА во главе с Чан Кайши и объединение Китая под властью Гоминьдана</li><li>- начало первой пятилетки в БССР</li></ul>
1949 г.	<ul style="list-style-type: none"><li>- НАТО (Организация Североатлантического договора)</li><li>- Совет Экономической Взаимопомощи (СЭВ)</li></ul>

# Приёмы запоминания дат

1951 г.	<ul style="list-style-type: none"><li>- создание Европейского объединения угля и стали (ЕОУС)</li><li>- утверждение нового Государственного флага БССР</li></ul>
1955 г.	<ul style="list-style-type: none"><li>- Организация Варшавского договора (ОВД)</li><li>- утвержден Государственный гимн БССР</li></ul>
1995 г.	<ul style="list-style-type: none"><li>- договор о дружбе, добрососедстве и сотрудничестве Беларуси и России</li><li>- Всемирная торговая организация (ВТО)</li></ul>
2014 г.	<ul style="list-style-type: none"><li>- договор об учреждении Евразийского экономического союза (ЕАЭС) был подписан в Астане</li><li>- Указ «О деятельности Китайско-Белорусского индустриального парка «Индустриальный парк «Великий камень»</li></ul>
2024 г.	Республика Беларусь стала страной – партнером БРИКС, ШОС

